

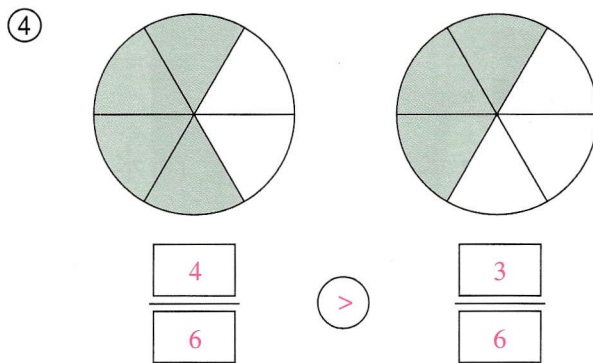
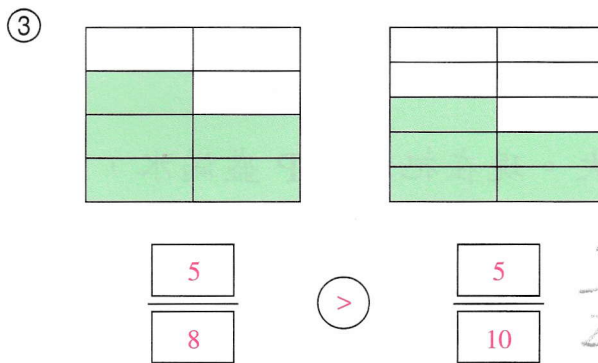
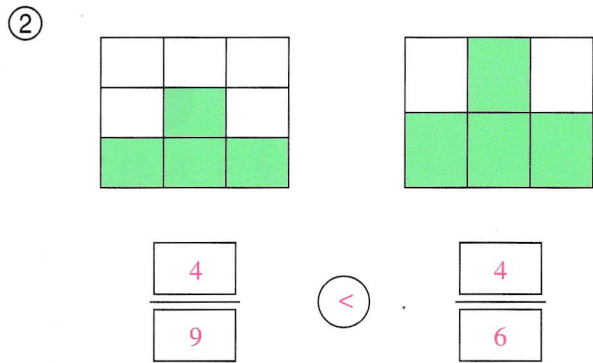
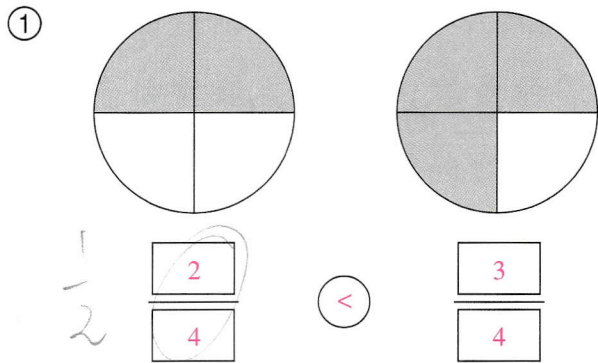
分數的比較

日期：_____

我答對了_____題

0-4 題 5-8 題 9-12 題

先寫出着色部分佔全圖的幾分之幾，然後看圖比較每組分數的大小，在圈內填寫「>」或「<」。



在圈內填寫「>」或「<」。

⑤ $\frac{3}{9}$ > $\frac{2}{9}$

⑥ $\frac{5}{14}$ < $\frac{7}{14}$

⑦ $\frac{10}{15}$ < $\frac{10}{13}$

⑧ $\frac{4}{9}$ < $\frac{4}{7}$

⑨ $\frac{8}{15}$ < $\frac{12}{15}$

⑩ $\frac{5}{12}$ > $\frac{5}{14}$

把下列各組分數由大至小排列，填填看。

⑪ $\frac{5}{11}, \frac{10}{11}, \frac{8}{11}$

⑫ $\frac{7}{8}, \frac{7}{7}, \frac{7}{9}$

$\frac{10}{11} > \frac{8}{11} > \frac{5}{11}$

$\frac{7}{7} > \frac{7}{8} > \frac{7}{9}$