

姓名：_____

班別：_____ 日期：_____

我答對了：



0-4 題




5-8 題



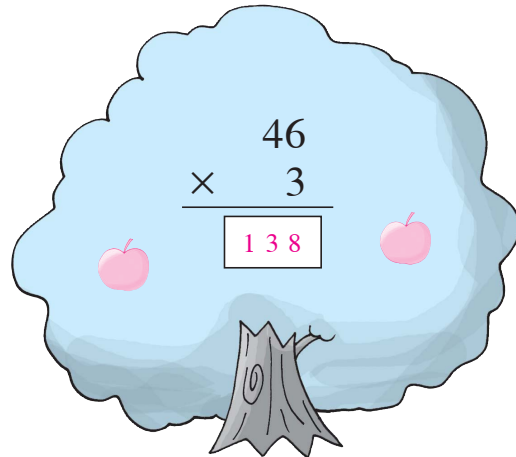
9-11 題

計算樹上的算式，並回答問題。

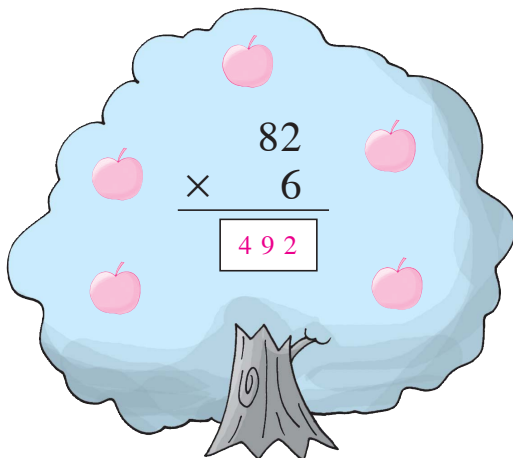
1



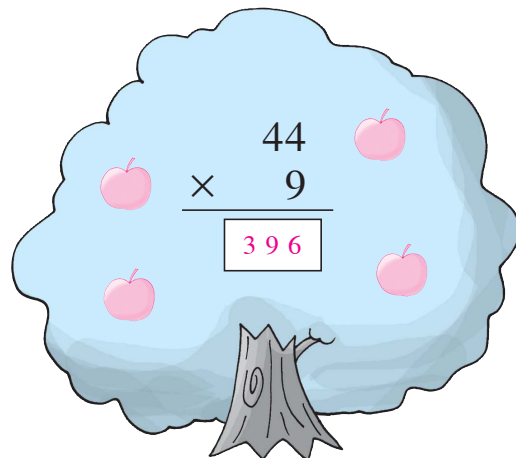
2



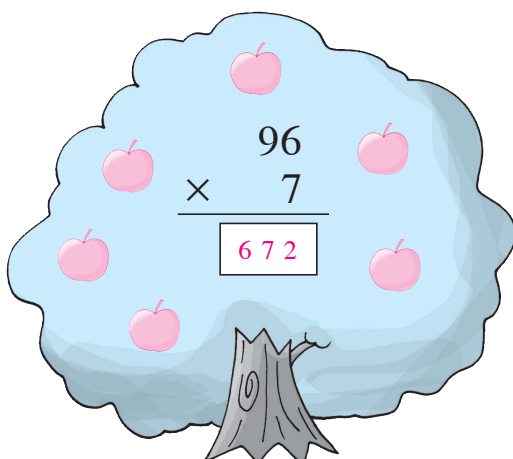
3



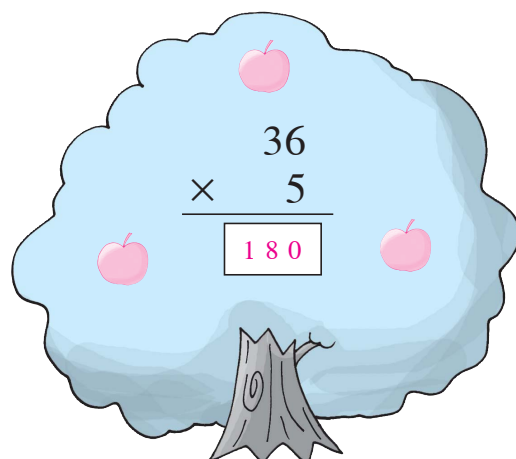
4





5



6



- 7 以上的蘋果樹中，計算結果越大，所結的蘋果越多。依結果的大小，從貼紙頁中取出適量的蘋果，貼在每棵樹上。(最少 1 個 ，最多 6 個 )

文具店

列式計算下列各題。

- 8 每盒鉛筆有 12 枝，9 盒鉛筆共有多少枝？

共有：

$$\begin{array}{r} \boxed{12} \times \boxed{9} \\ \hline = \boxed{108} \text{ (枝)} \end{array}$$

$$\begin{array}{r} \boxed{12} \\ \times \boxed{9} \\ \hline \boxed{108} \end{array}$$


- 9 3 人合資購買一本相簿，各人付款 18 元，相簿的售價是多少元？

相簿的售價是：

$$\begin{array}{r} 18 \times 3 \\ \hline = 54 \text{ (元)} \end{array}$$

$$\begin{array}{r} 18 \\ \times 3 \\ \hline 54 \end{array}$$

10



我買 6 張。



小思

小思需付多少元？

小思需付：

$$\begin{array}{r} 24 \times 6 \\ \hline = 144 \text{ (元)} \end{array}$$

$$\begin{array}{r} 24 \\ \times 6 \\ \hline 144 \end{array}$$

- 11 每本筆記簿重 38 克，7 本筆記簿共重多少克？

共重：

$$\begin{array}{r} 38 \times 7 \\ \hline = 266 \text{ (克)} \end{array}$$

$$\begin{array}{r} 38 \\ \times 7 \\ \hline 266 \end{array}$$