

姓名：_____

班別：_____ 日期：_____

我答對了：



0-4 題



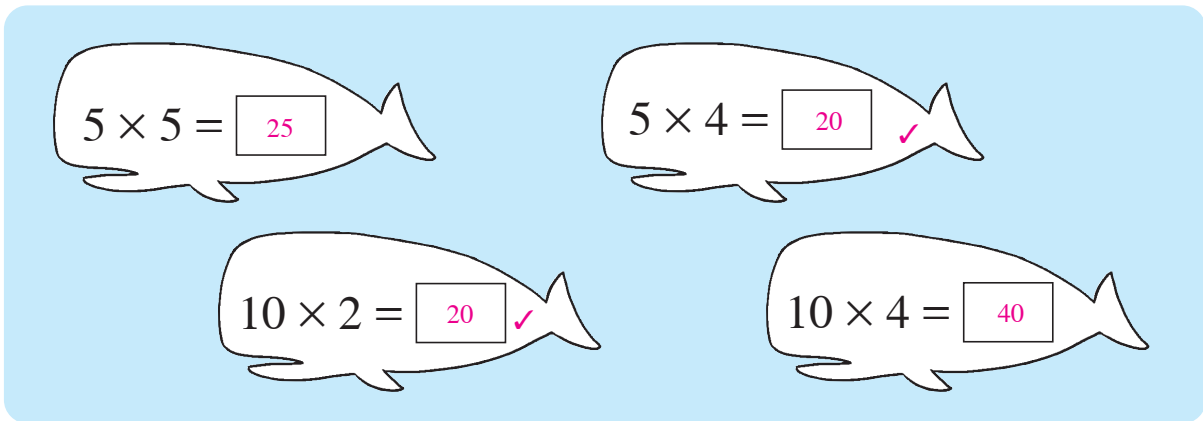
5-8 題



9-12 題

計算下列各題，並依指示填上顏色。

- 1 把結果是 20 的  填上顏色。

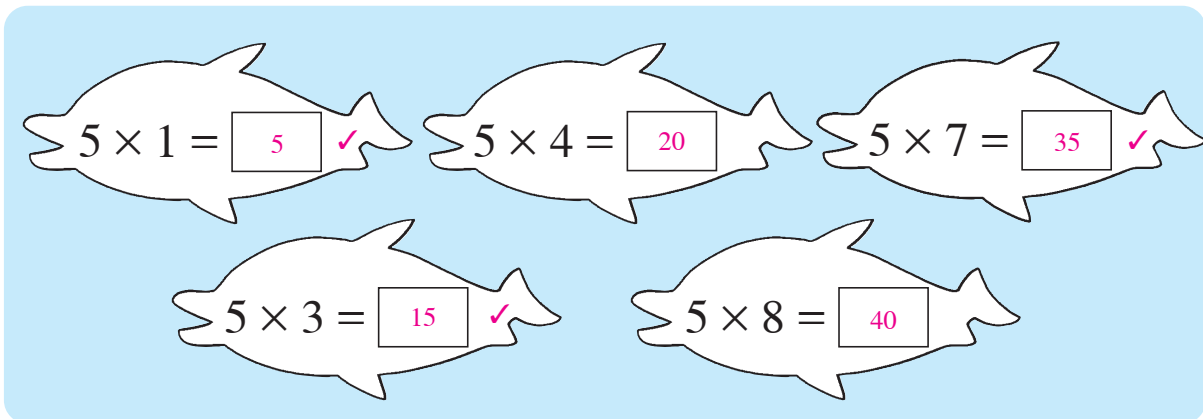


$5 \times 5 = 25$
 $5 \times 4 = 20$ ✓

$10 \times 2 = 20$ ✓
 $10 \times 4 = 40$

✓ 表示填色

- 2 把結果是單數的  填上顏色。

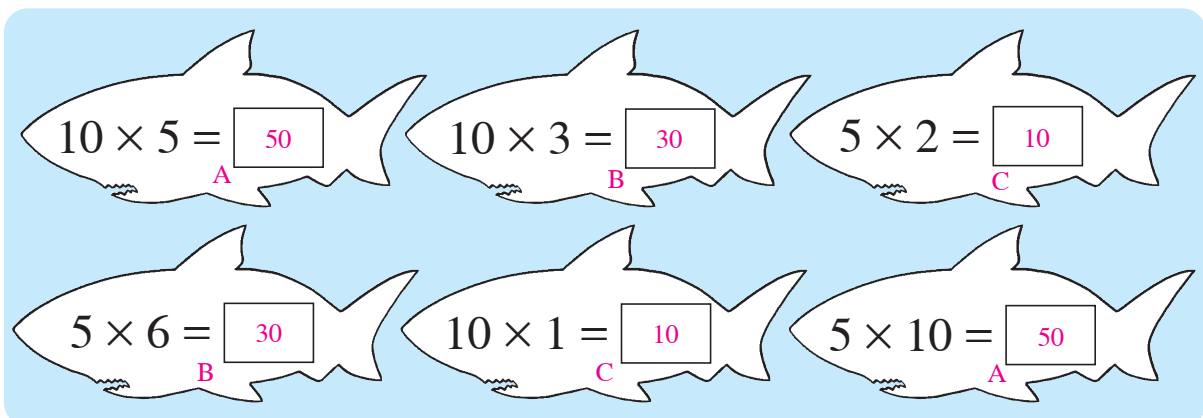


$5 \times 1 = 5$ ✓
 $5 \times 4 = 20$
 $5 \times 7 = 35$ ✓

$5 \times 3 = 15$ ✓
 $5 \times 8 = 40$

✓ 表示填色

- 3 把結果相同的  填上相同的顏色。



$10 \times 5 = 50$ (A)
 $10 \times 3 = 30$ (B)
 $5 \times 2 = 10$ (C)

$5 \times 6 = 30$ (B)
 $10 \times 1 = 10$ (C)
 $5 \times 10 = 50$ (A)

相同的英文字母表示填上相同的顏色

算算看。

$$\begin{array}{r} 4 \quad 5 \\ \times 5 \\ \hline \boxed{25} \end{array}$$

$$\begin{array}{r} 5 \quad 10 \\ \times 2 \\ \hline \boxed{20} \end{array}$$

$$\begin{array}{r} 6 \quad 10 \\ \times 8 \\ \hline \boxed{80} \end{array}$$

$$7 \quad 5 \times 1 = \boxed{5}$$

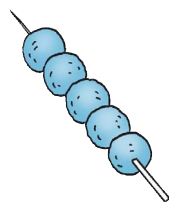
$$8 \quad 5 \times 9 = \boxed{45}$$

$$9 \quad 10 \times 7 = \boxed{70}$$

列式計算下列各題。

- 10 每串魚蛋有 5 粒，8 串魚蛋共有多少粒？
共有：

$$\begin{array}{l} 5 \times \boxed{8} \\ = \boxed{40} \text{ (粒)} \end{array}$$



$$\begin{array}{r} \quad 5 \\ \times \boxed{8} \\ \hline \boxed{40} \end{array}$$

- 11 籃球比賽場地每行有 10 個座位，4 行共有
座位多少個？

共有座位：

$$\begin{array}{l} \boxed{10} \times \boxed{4} \\ = \boxed{40} \text{ (個)} \end{array}$$



$$\begin{array}{r} \boxed{10} \\ \times \boxed{4} \\ \hline \boxed{40} \end{array}$$

- 12 猴子小力每天吃 5 隻香蕉，牠一星期吃了
香蕉多少隻？

吃了香蕉：_____

$$\begin{array}{l} 5 \times 7 \\ = 35 \text{ (隻)} \end{array}$$

一星期有 7 天。



$$\begin{array}{r} 5 \\ \times 7 \\ \hline 35 \end{array}$$