

姓名：_____

班別：_____ 日期：_____

我答對了：



0-4 題




5-8 題




9-12 題


計算下列各題，並依指示填上顏色。

- 1 把結果是 20 的  填上顏色。



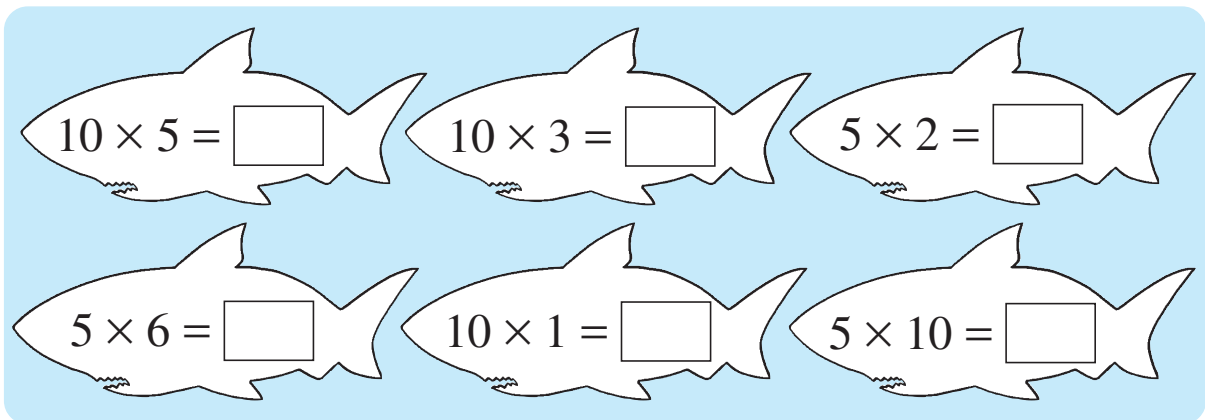
$5 \times 5 = \square$ $5 \times 4 = \square$
 $10 \times 2 = \square$ $10 \times 4 = \square$

- 2 把結果是單數的  填上顏色。



$5 \times 1 = \square$ $5 \times 4 = \square$ $5 \times 7 = \square$
 $5 \times 3 = \square$ $5 \times 8 = \square$

- 3 把結果相同的  填上相同的顏色。



$10 \times 5 = \square$ $10 \times 3 = \square$ $5 \times 2 = \square$
 $5 \times 6 = \square$ $10 \times 1 = \square$ $5 \times 10 = \square$

算算看。

$$\begin{array}{r} 4 \quad 5 \\ \times 5 \\ \hline \square \end{array}$$

$$\begin{array}{r} 5 \quad 10 \\ \times 2 \\ \hline \square \end{array}$$

$$\begin{array}{r} 6 \quad 10 \\ \times 8 \\ \hline \square \end{array}$$

$$7 \quad 5 \times 1 = \square$$

$$8 \quad 5 \times 9 = \square$$

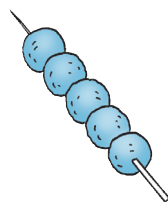
$$9 \quad 10 \times 7 = \square$$

列式計算下列各題。

10 每串魚蛋有 5 粒，8 串魚蛋共有多少粒？

共有：

$$\begin{array}{l} 5 \times \square \\ = \square \text{ (粒)} \end{array}$$



$$\begin{array}{r} \quad 5 \\ \times \square \\ \hline \square \end{array}$$

11 籃球比賽場地每行有 10 個座位，4 行共有座位多少個？

共有座位：

$$\begin{array}{l} \square \bigcirc \square \\ = \square \text{ (個)} \end{array}$$



$$\begin{array}{r} \square \\ \bigcirc \square \\ \hline \square \end{array}$$

12 猴子小力每天吃 5 隻香蕉，牠一星期吃了香蕉多少隻？

一星期有 7 天。

