

姓名：\_\_\_\_\_

班別：\_\_\_\_\_ 日期：\_\_\_\_\_

我答對了：



0-2 題



3-4 題

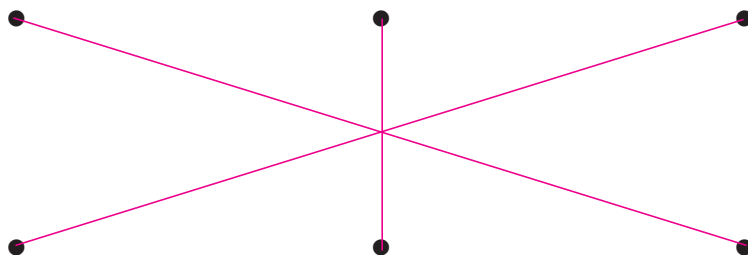


5-7 題

乘式中各數的名稱是甚麼？連連看。

1

$$8 \times 3 = 24$$



積

乘數

被乘數


填填看。

2 一隻蝸牛有 2 隻眼睛，3 隻蝸牛共有 6 隻眼睛。

$$2 + 2 + 2 = \boxed{6}$$

2 的 3 倍是 6


$$\text{用乘式表示：} 2 \times 3 = \boxed{6}$$

讀作：2 乘以 3 等於 63 一盒有 6 枝鉛筆，5 盒共有 30 枝鉛筆。

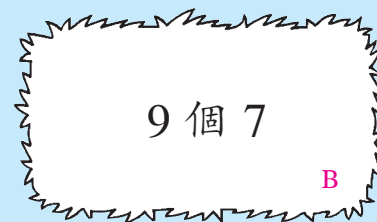

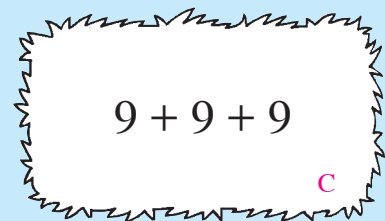
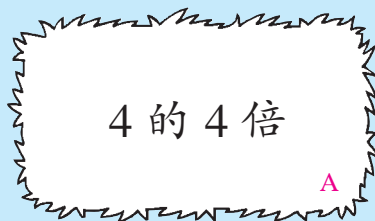


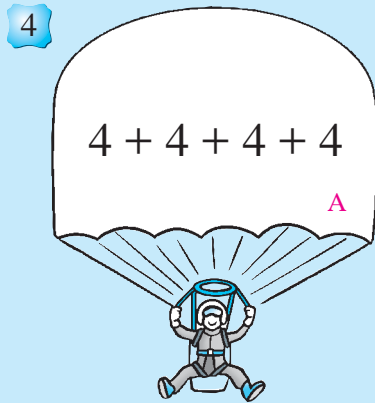
$$6 + 6 + 6 + 6 + 6 = \boxed{30}$$

5 個 6 是 30

$$\text{用乘式表示：} 6 \times \boxed{5} = \boxed{30}$$

讀作：6 乘以 5 等於 30

把結果相同的降落傘和草堆填上相同的顏色。



相同的英文字母表示填上相同的顏色