

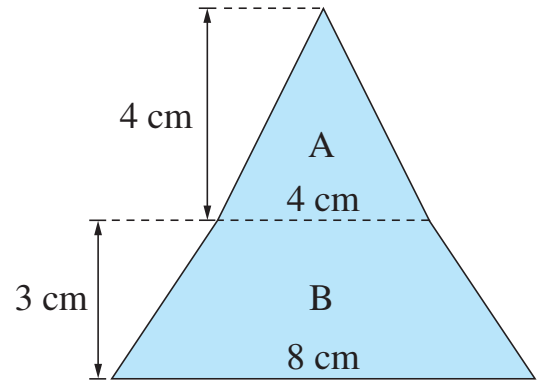


10 多邊形的面積

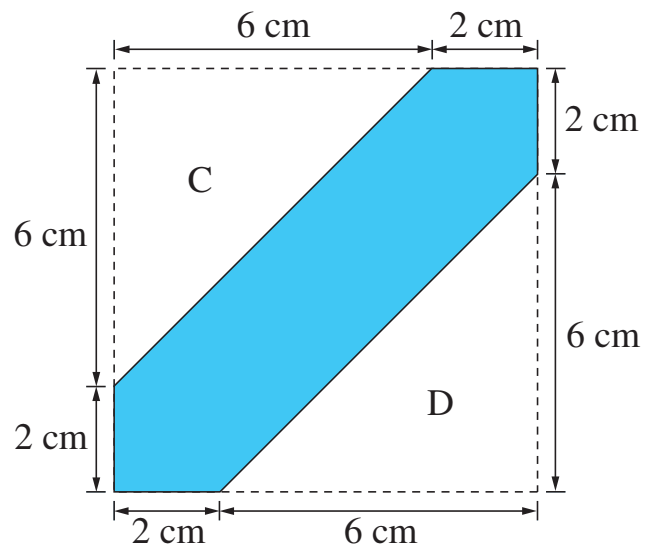
姓名： _____
 班別： _____ 日期： _____
 我答對了：
 0-2 題 3-4 題 5 題

看圖算一算。

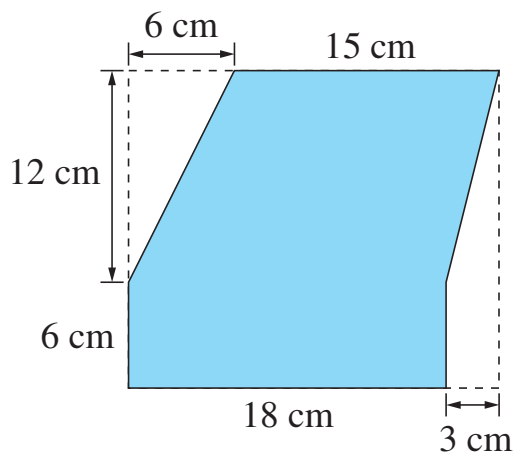
- 1 三角形 A 的面積是：
 _____ = _____ (cm²)
 梯形 B 的面積是：
 _____ = _____ (cm²)
 整個圖形的面積是：
 _____ = _____ (cm²)

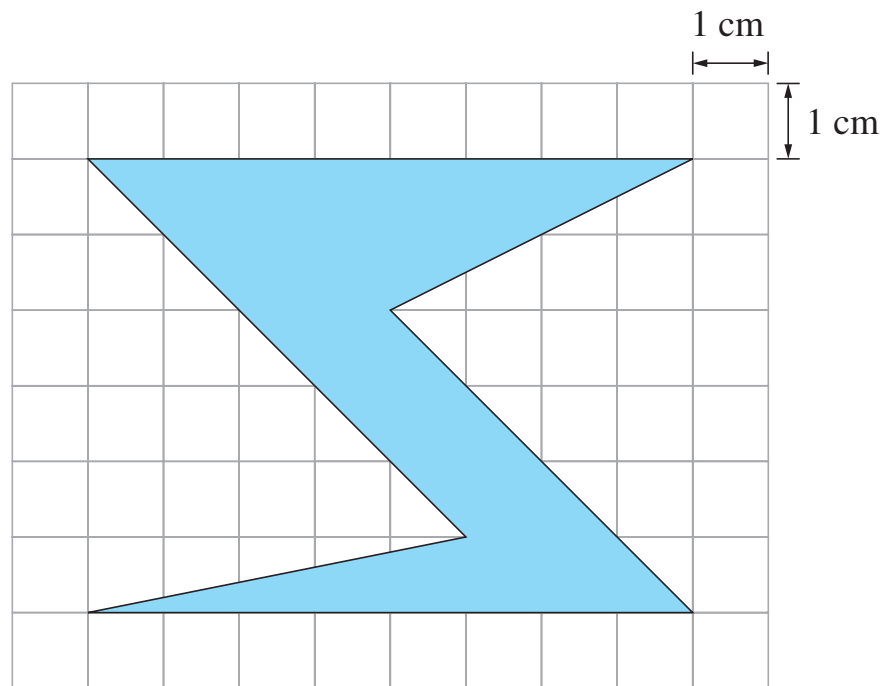


- 2 整個正方形的面積是：
 _____ = _____ (cm²)
 三角形 C 的面積是：
 _____ = _____ (cm²)
 三角形 D 的面積是：
 _____ = _____ (cm²)
 着色部分的面積是：
 _____ = _____ (cm²)



利用分割或填補的方法，計算各個多邊形的面積。





4 以分割的方法求上面圖形的面積。

5 以填補的方法求上面圖形的面積。