

2 方向(二)

姓名： _____

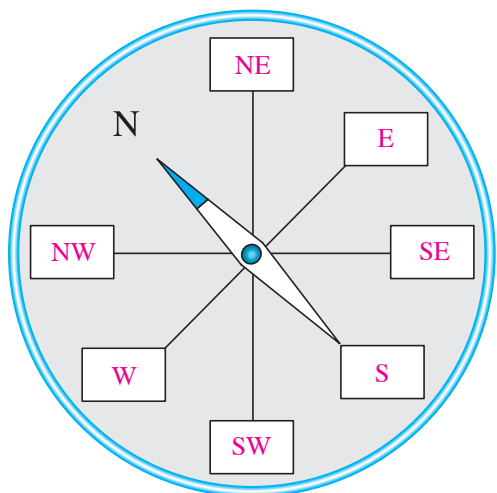
班別： _____ 日期： _____

我答對了：

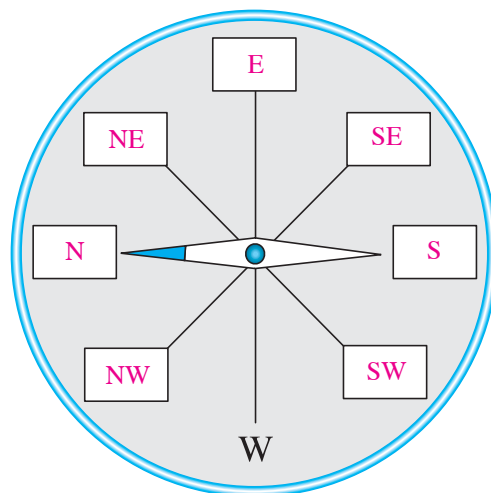
0-2 題 3-4 題 5-7 題

在指南針上填寫英文字母，表示八個方向。

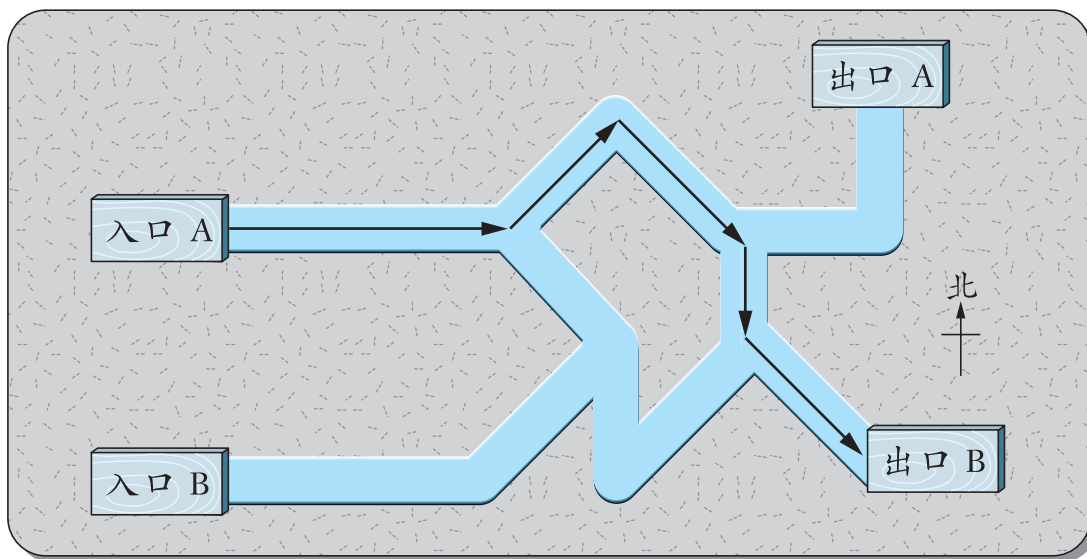
1



2



礦場隧道



3 上圖中， \rightarrow 表示礦工經過的路線，試寫出他從入口 A 到出口 B 各段路所走的方向：

東 \rightarrow \rightarrow \rightarrow \rightarrow


4 若礦工從入口 A 經另一條路線到達出口 B，試寫出他在各段路所走的方向：

東 \rightarrow \rightarrow \rightarrow \rightarrow

5 哪個入口較接近出口 A？(/ 入口 B)

座位表

詠儀、子建、天僥、美姍、春勵等五人一同參加學校舉辦的美術班，以下是美術班的座位表。



依指示完成下列各題。

- 6 依指示從貼紙頁中取出人物圖，貼在上面適當的位置。

天僥坐在子建的西南方，同時在詠儀的西方；

春勵與美姍都坐在詠儀的南方；

美姍坐在天僥的東南方；

子建坐在春勵的西北方。

- 7 老師派發一疊手工紙，由美姍開始依以下次序傳遞，試在括號內記錄傳遞的方向。

(北) (北) (西) (東北)

美姍 → 春勵 → 詠儀 → 天僥 → 子建