

姓名：_____

班別：_____ 日期：_____

我答對了：



0-7 題



8-14 題



15-20 題

小豬迷路了

先計算下列各題，引領小豬選擇答案較小的路徑回家。

1 30×5
=

2 38×4
=

3 64×6
=

4 5×77
=

5 54×7
=

6 9×43
=

7 341×6
=

8 287×7
=

9 9×228
=

10 3×667
=

11 畫出小豬回家的路徑，然後把小豬的家填上顏色。

算算看。

$$\begin{array}{r} 12 \quad 43 \\ \times \quad 2 \\ \hline \square \end{array}$$

$$\begin{array}{r} 13 \quad 60 \\ \times \quad 8 \\ \hline \square \end{array}$$

$$\begin{array}{r} 14 \quad 78 \\ \times \quad 5 \\ \hline \square \end{array}$$

$$\begin{array}{r} 15 \quad 400 \\ \times \quad 6 \\ \hline \square \end{array}$$

$$\begin{array}{r} 16 \quad 109 \\ \times \quad 9 \\ \hline \square \end{array}$$

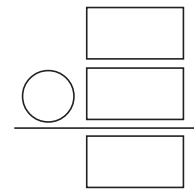
$$\begin{array}{r} 17 \quad 763 \\ \times \quad 4 \\ \hline \square \end{array}$$

列式計算下列各題。

- 18 每罐茶葉售 68 元，買 7 罐茶葉，共付多少元？


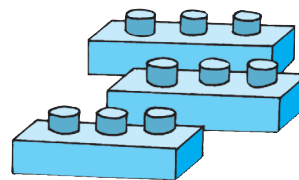
共付：

$$\begin{array}{l} \square \times \square \\ = \square \text{ (元)} \end{array}$$



- 19 每盒積木有 136 塊，爸爸買了 4 盒，共有積木多少塊？

共有積木：



- 20 每幢大廈有 272 個住宅單位，6 幢大廈共有住宅單位多少個？

