

姓名： _____

班別： _____ 日期： _____

我答對了：



0-3 題



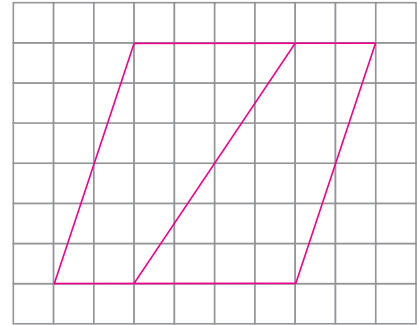
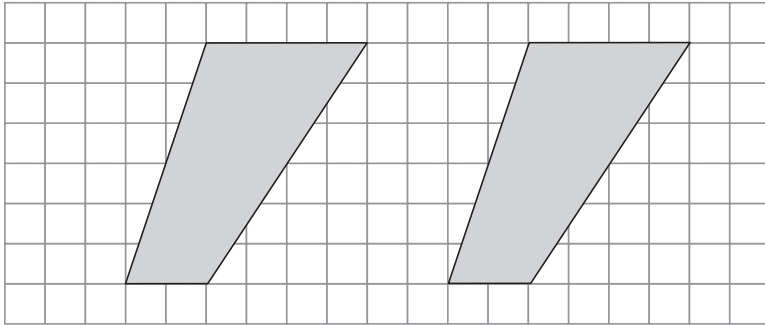
4-6 題



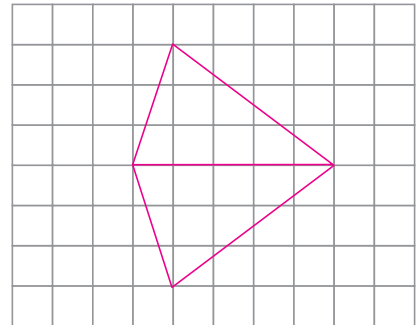
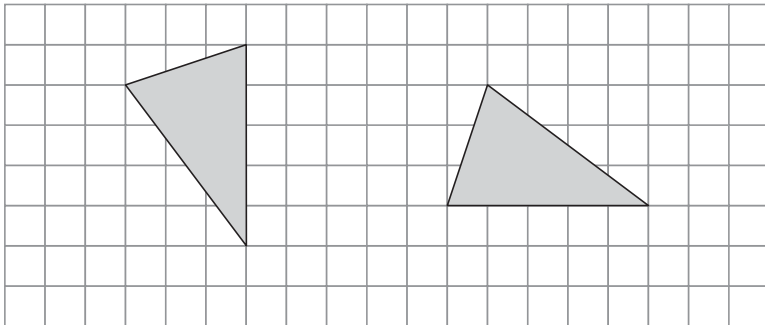
7-8 題

從貼紙頁中取出適當的圖形，依指示把左面方格紙中的圖形拼砌成指定的四邊形，貼在右面。

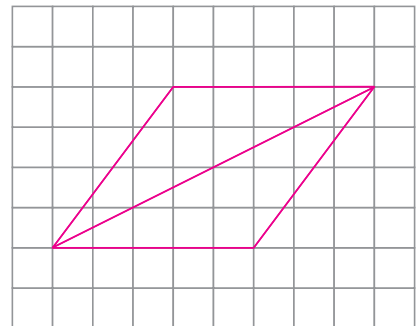
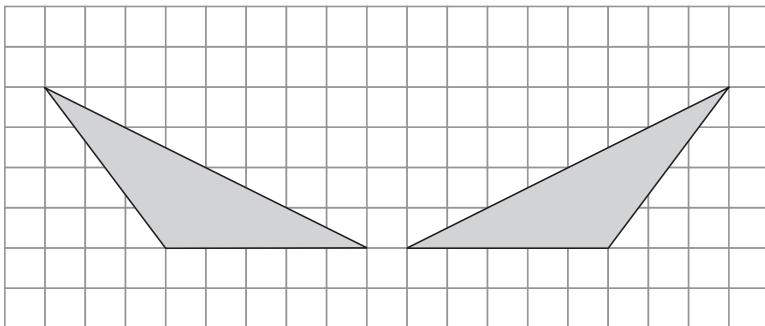
1 平行四邊形



2 鵝形



3 平行四邊形



在適當的圈內加「✓」。

4 一個有直角的菱形可稱為以下哪一種四邊形？

- 長方形 正方形
- 梯形

5 一個四邊長度相等的平行四邊形可稱為以下哪一種四邊形？

- 長方形 正方形
- 梯形 菱形

6 以下哪一個四邊形不屬於平行四邊形家族的？

- 長方形 正方形
- 梯形 菱形

7 長方形的特性中，哪一種是平行四邊形沒有的？

- 兩組對邊平行
- 兩組對邊的長度相等
- 兩組對角相等
- 四個角都是直角

8 正方形的特性中，哪一種是長方形沒有的？

- 兩組對邊平行
- 四邊的長度相等
- 兩組對角相等
- 四個角都是直角