

姓名：\_\_\_\_\_

班別：\_\_\_\_\_ 日期：\_\_\_\_\_

我答對了：



0-3 題




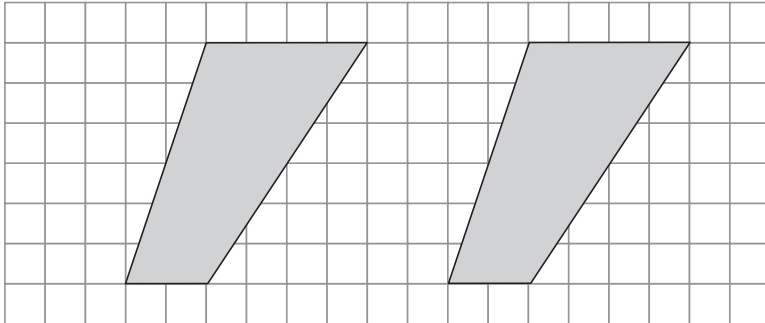
4-6 題




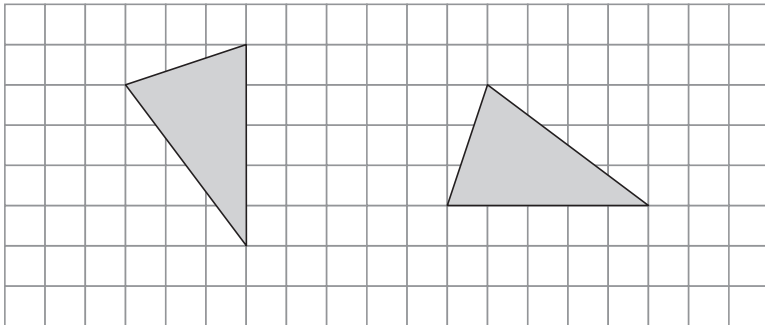
7-8 題

從貼紙頁中取出適當的圖形，依指示把左面方格紙中的圖形拼砌成指定的四邊形，貼在右面。

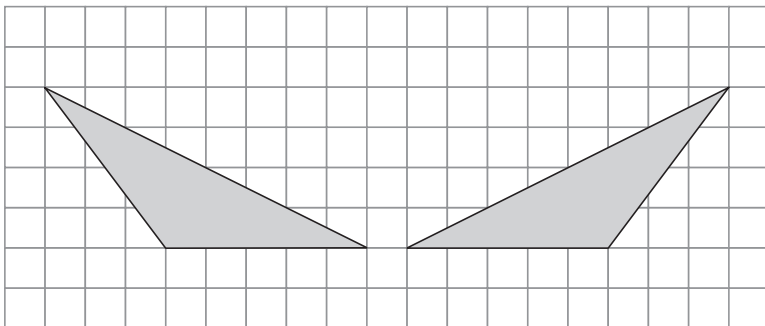
1 平行四邊形



2 鷓形



3 平行四邊形



在適當的圈內加「✓」。

4 一個有直角的菱形可稱為以下哪一種四邊形？



長方形



正方形



梯形

5 一個四邊長度相等的平行四邊形可稱為以下哪一種四邊形？



長方形



正方形



梯形



菱形

6 以下哪一個四邊形不屬於平行四邊形家族的？



長方形



正方形



梯形



菱形

7 長方形的特性中，哪一種是平行四邊形沒有的？



兩組對邊平行



兩組對邊的長度相等



兩組對角相等



四個角都是直角

8 正方形的特性中，哪一種是長方形沒有的？



兩組對邊平行



四邊的長度相等



兩組對角相等



四個角都是直角