



7

四邊形(二)

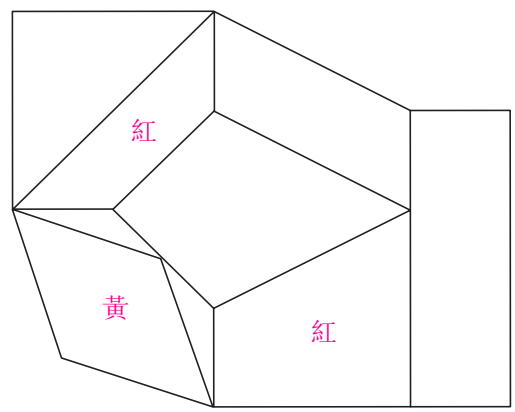
姓名：_____

班別：_____ 日期：_____

我答對了：_____

0-3 題 4-6 題 7-9 題

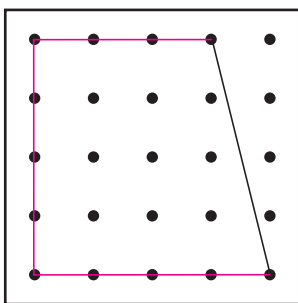
填一填。



- 1 把上圖中的梯形填上紅色。梯形只有 一 組對邊平行。
- 2 把上圖中的菱形填上黃色。菱形的 四 條邊的長度相等，兩 組對邊平行，兩 組對角相等。

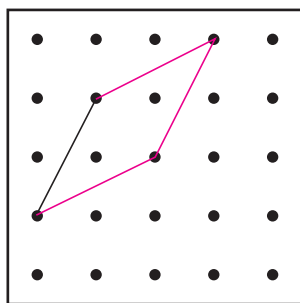
依指示在釘點紙上完成四邊形。

3 梯形



或其他合理答案

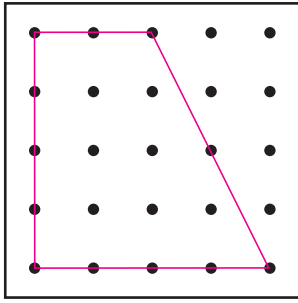
4 菱形



或其他合理答案

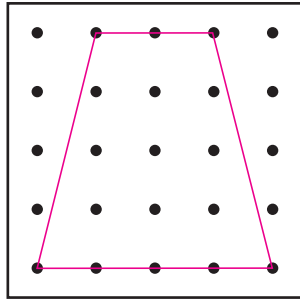
依指示在釘點紙上畫出指定的四邊形。

5 有直角的梯形



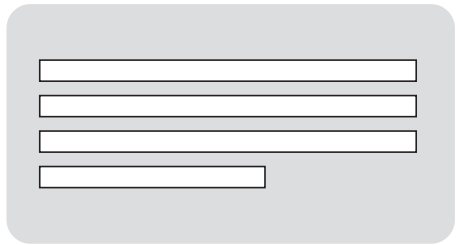
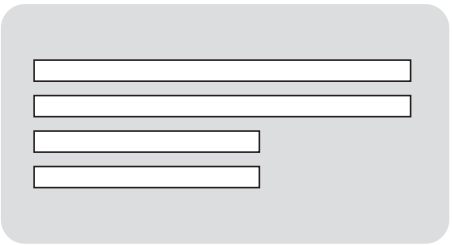
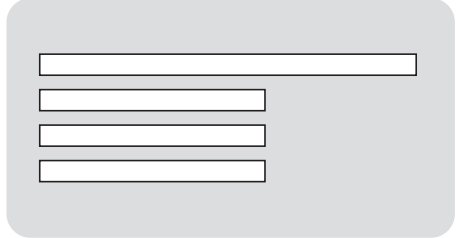
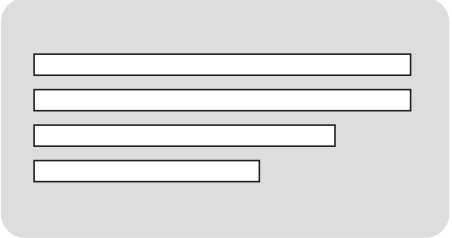
或其他合理答案

6 有一組對邊長度相等的梯形



或其他合理答案

7 下列哪一組紙條 **不可能** 拼出一個梯形？在空格內加「X」。

	<input type="checkbox"/>		<input checked="" type="checkbox"/>
	<input type="checkbox"/>		<input type="checkbox"/>

猜謎語

8



有一個四邊形，
它沒有直角，
但有四條長度相等的邊。

我知道！
這是一個 **菱** 形。



9 在下面的釘點紙上加畫直線，完成該個四邊形。

