



# 7

## 四邊形(二)

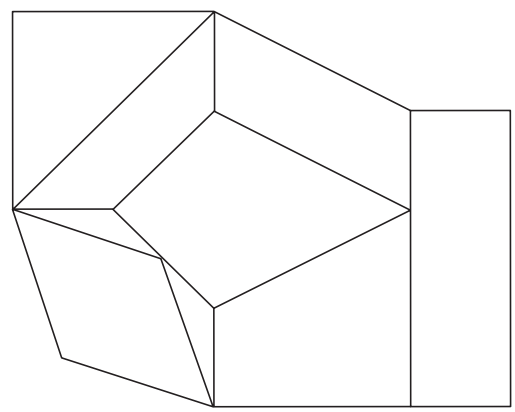
姓名： \_\_\_\_\_

班別： \_\_\_\_\_ 日期： \_\_\_\_\_

我答對了： \_\_\_\_\_

0-3 題 4-6 題 7-9 題

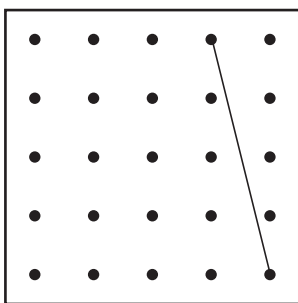
填一填。



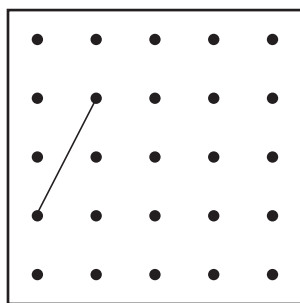
- 1 把上圖中的梯形填上紅色。梯形只有 \_\_\_\_\_ 組對邊平行。
- 2 把上圖中的菱形填上黃色。菱形的 \_\_\_\_\_ 條邊的長度相等， \_\_\_\_\_ 組對邊平行， \_\_\_\_\_ 組對角相等。

依指示在釘點紙上完成四邊形。

3 梯形

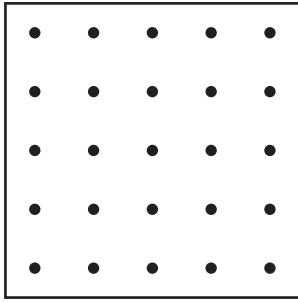


4 菱形

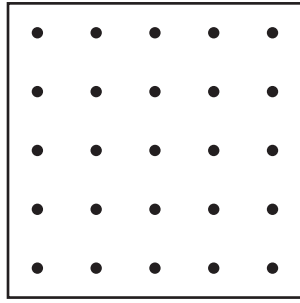


依指示在釘點紙上畫出指定的四邊形。

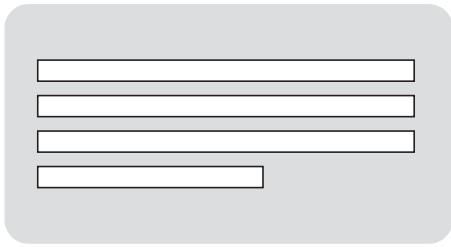
5 有直角的梯形

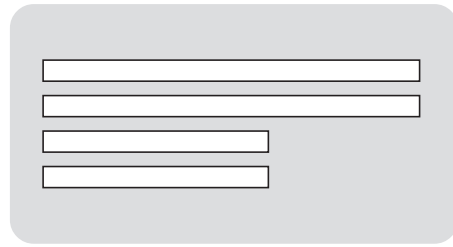


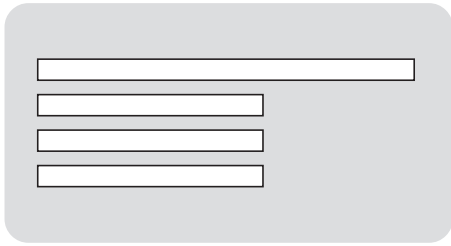
6 有一組對邊長度相等的梯形

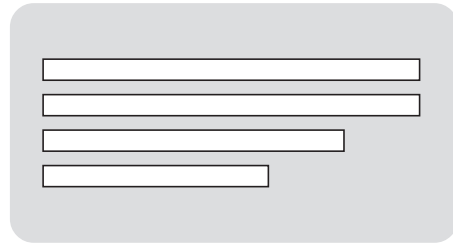


7 下列哪一組紙條 **不可能** 拼出一個梯形？在空格內加「X」。










### 猜謎語

8



有一個四邊形，  
它沒有直角，  
但有四條長度相等的邊。

我知道！  
這是一個 \_\_\_\_\_ 形。



9 在下面的釘點紙上加畫直線，完成該個四邊形。

