




## 6

## 四邊形(一)

姓名：\_\_\_\_\_

班別：\_\_\_\_\_ 日期：\_\_\_\_\_

我答對了：

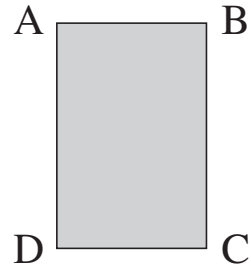
 0-6 題
  7-12 題
  13-18 題

看圖回答問題。

- 1 量度四邊形 ABCD 四邊的長度。

AB：\_\_\_\_\_ 厘米 BC：\_\_\_\_\_ 厘米

CD：\_\_\_\_\_ 厘米 DA：\_\_\_\_\_ 厘米



- 2 四邊形 ABCD 的兩組對邊長度分別

(相等 / 不相等)。

- 3 四邊形 ABCD 的四個角都(是 / 不是)直角。

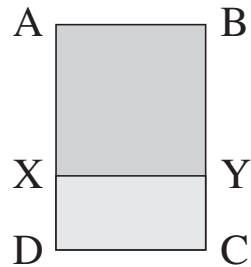
- 4 四邊形 ABCD 是一個\_\_\_\_\_形。

- 5 把四邊形 ABCD 分成兩個四邊形。

再量度四邊形 ABYX 四邊的長度。

AB：\_\_\_\_\_ 厘米 BY：\_\_\_\_\_ 厘米

YX：\_\_\_\_\_ 厘米 XA：\_\_\_\_\_ 厘米



- 6 四邊形 ABYX 四邊的長度(相等 / 不相等)。

- 7 四邊形 ABYX 的四個角都(是 / 不是)直角。

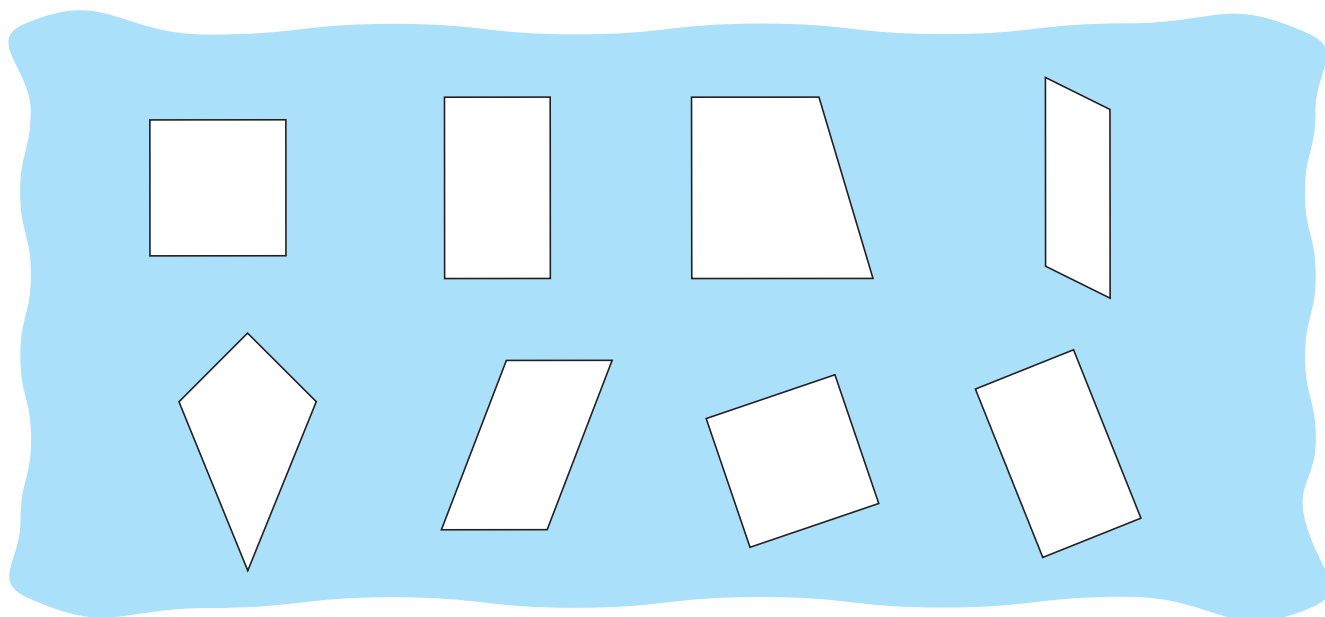
- 8 四邊形 ABYX 是一個\_\_\_\_\_形。

- 9 四邊形 XYCD 是一個\_\_\_\_\_形。

- 10 以上的長方形與正方形，它們的兩組對邊(平行 / 不平行)。

- 11 凡有兩組對邊平行的四邊形，可稱為\_\_\_\_\_形。

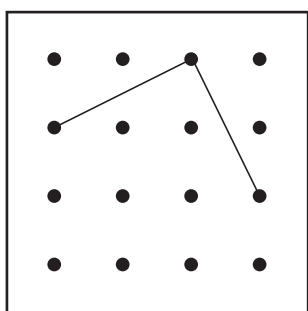
細看下圖，依指示完成下列各題。



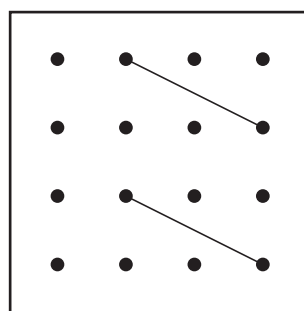
- 12 把正方形填上藍色。
- 13 在餘下的圖形中，把長方形填上紅色。
- 14 把 **不是** 平行四邊形的圈出來。

依指示在釘點紙上完成四邊形。

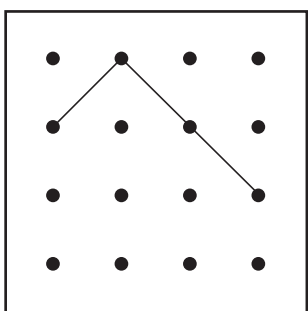
15 正方形



16 平行四邊形



17 長方形



18 平行四邊形

