



角的比較

日期：_____

我答對了 _____ 題



0-2 題



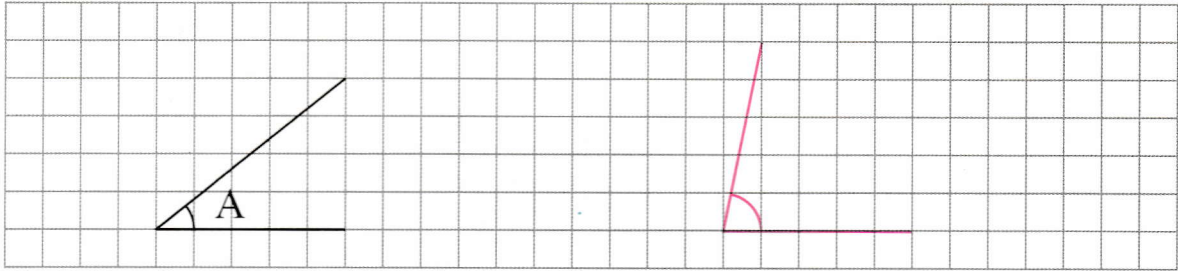
3-4 題



5 題

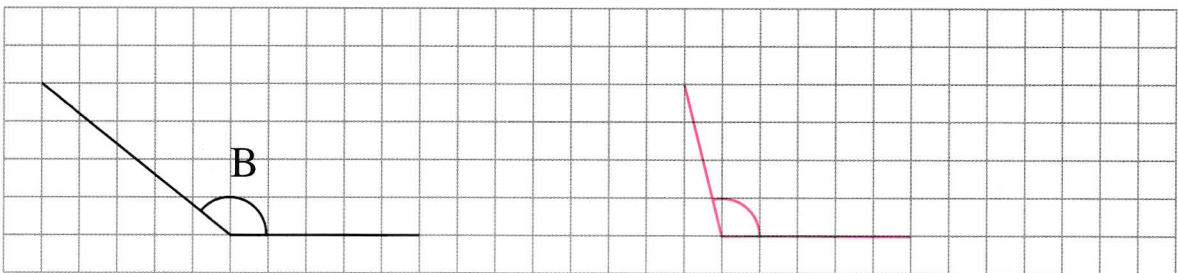
依指示完成下列各題。

① 畫出一個比角 A 大的銳角。



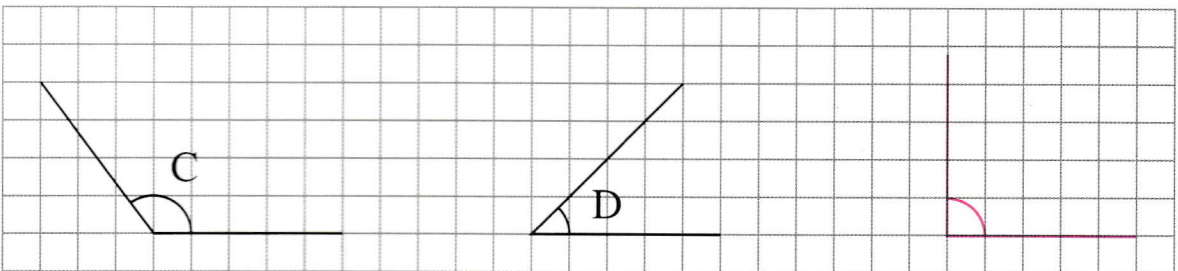
或其他合理答案

② 畫出一個比角 B 小的鈍角。



或其他合理答案

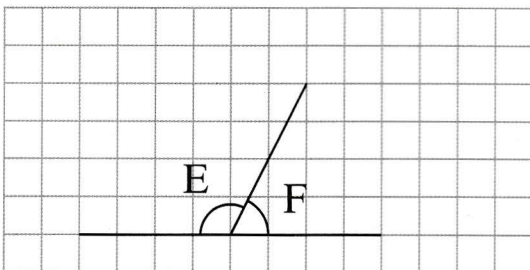
③ 畫出一個比角 C 小，但比角 D 大的角。



或其他合理答案

圈出正確答案。

④ 角 E 比角 F (大 / 小) 。



⑤ 角 G 比角 H (大 / 小) 。

