

分數的認識(一)

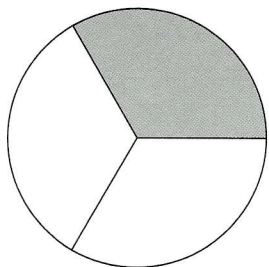
日期：_____

我答對了_____題

0-3 題 4-6 題 7-9 題

用分數表示着色部分佔全圖的多少，並寫出它的讀法。

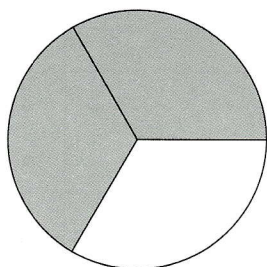
①



寫作 $\frac{1}{3}$

讀作 三分之一

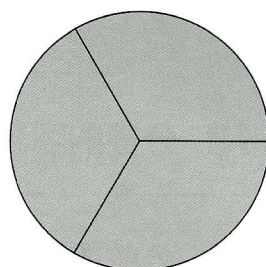
②



寫作 $\frac{2}{3}$

讀作 三分之二

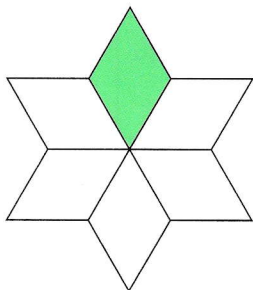
③



寫作 $\frac{3}{3}$

讀作 三之三

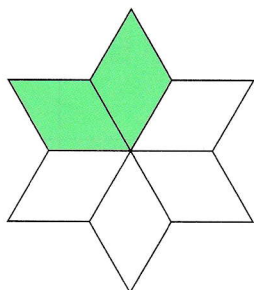
④



寫作 $\frac{1}{6}$

讀作 六分之一

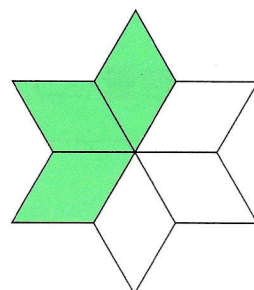
⑤



寫作 $\frac{2}{6}$

讀作 六分之二

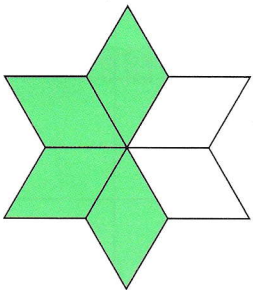
⑥



寫作 $\frac{3}{6}$

讀作 六分之三

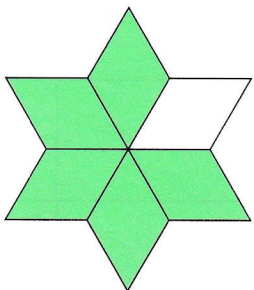
⑦



寫作 $\frac{4}{6}$

讀作 六分之四

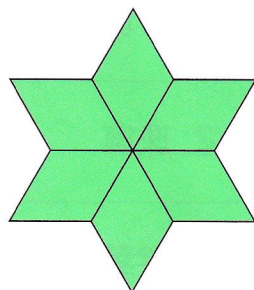
⑧



寫作 $\frac{5}{6}$

讀作 六分之五

⑨



寫作 $\frac{6}{6}$

讀作 六分之六

分數的認識(一)

日期：_____

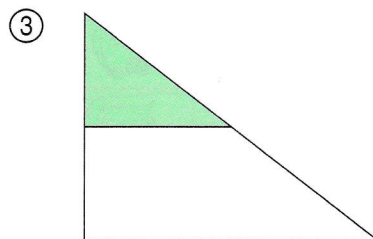

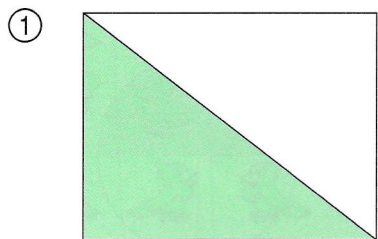
我答對了 _____ 題

0-2 題

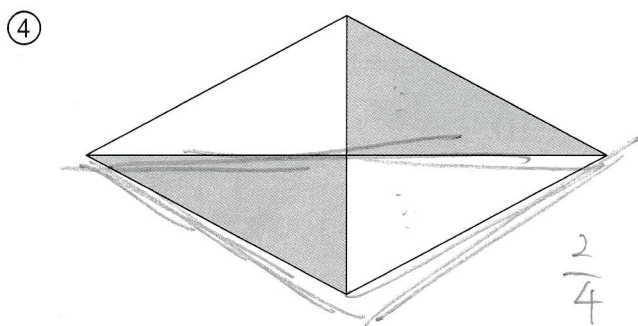
3-4 題

5-7 題

如果着色部分是佔全圖的 $\frac{1}{2}$ ，在空格內加「✓」，否則加「✗」。




用分數表示着色部分佔全圖的多少，並寫出它的讀法。



寫作 $\frac{1}{2}$

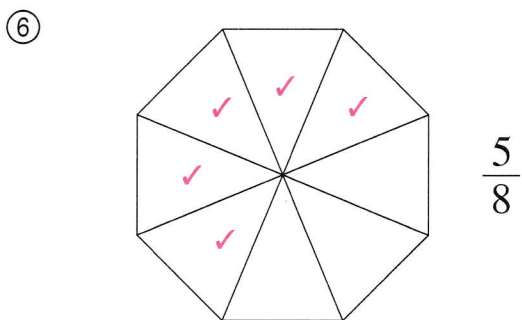
讀作 二分之一



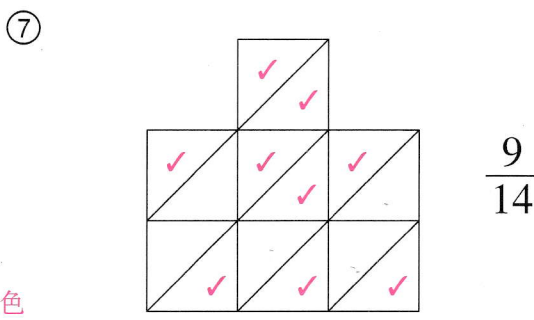
寫作 $\frac{7}{10}$

讀作 十分之七

依分數把下列各圖填上顏色。



$\frac{5}{8}$



$\frac{9}{14}$

✓ 表示填色
或其他合理答案