



三角形的製作

日期：_____

我答對了 _____ 題



0-1 題



2-3 題





4 題

試利用手工紙製作下面的三角形，然後貼在適當的空位內。

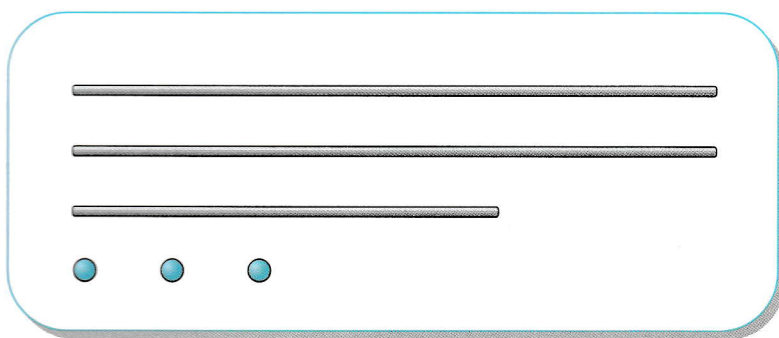
① 直角三角形

② 不等邊三角形



利用下面各組膠泥和竹枝，能製成哪一種三角形？在圈內加「✓」。

- ③ 等邊三角形
- 等腰三角形
- 不等邊三角形
- 不能製成三角形



- ④ 等邊三角形
- 直角三角形
- 不等邊三角形
- 不能製成三角形

