

姓名：_____

班別：_____ 日期：_____

我答對了：



0-4 題



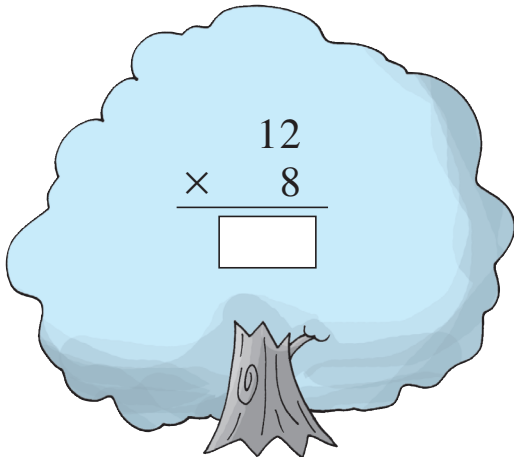
5-8 題



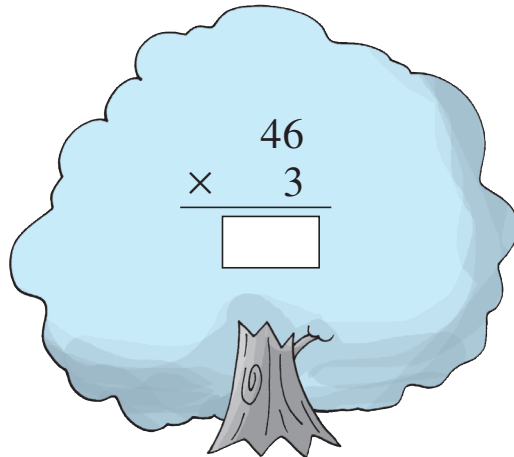
9-11 題

計算樹上的算式，並回答問題。

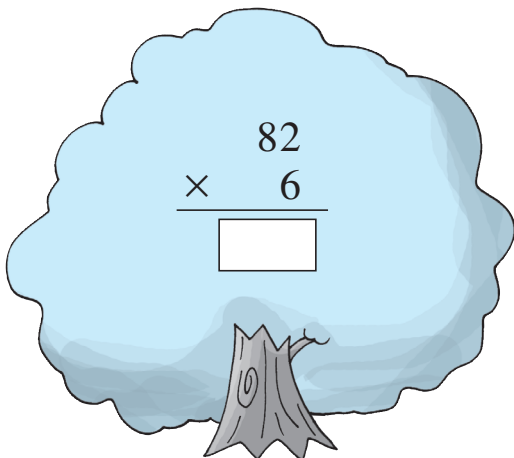
1



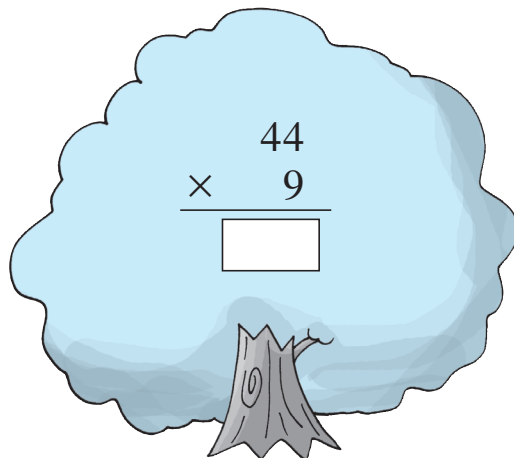
2



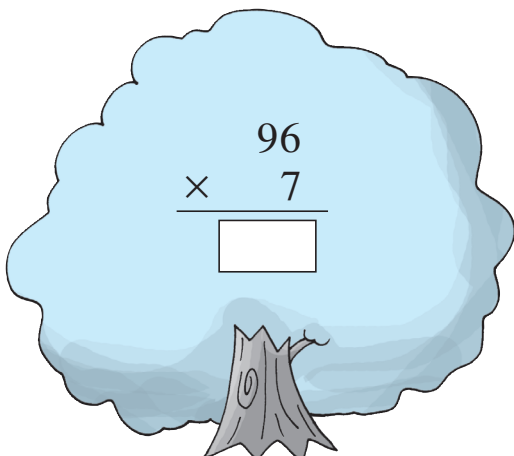
3



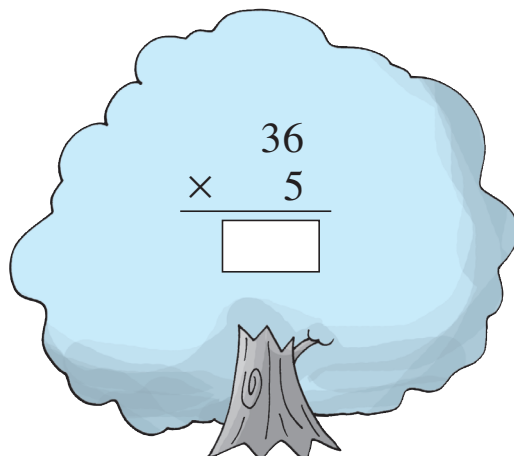
4





5



6



- 7 以上的蘋果樹中，計算結果越大，所結的蘋果越多。依結果的大小，從貼紙頁中取出適量的蘋果，貼在每棵樹上。(最少 1 個 ，最多 6 個 )

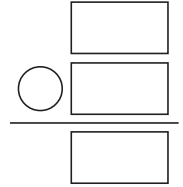
文具店

列式計算下列各題。

- 8 每盒鉛筆有 12 枝，9 盒鉛筆共有多少枝？


共有：

$$\begin{array}{l} \square \circ \square \\ = \square \text{ (枝)} \end{array}$$




- 9 3 人合資購買一本相簿，各人付款 18 元，相簿的售價是多少元？

相簿的售價是：



10




我買 6 張。



小思

小思需付多少元？



- 11 每本筆記簿重 38 克，7 本筆記簿共重多少克？

