

姓名：\_\_\_\_\_

班別：\_\_\_\_\_ 日期：\_\_\_\_\_

我答對了：



0-4 題



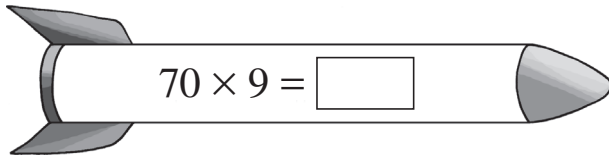
5-9 題



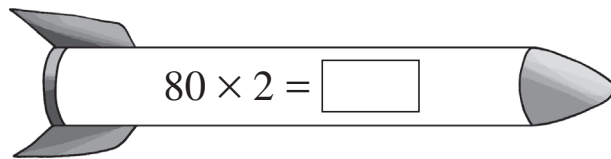
10-13 題

計算飛彈上的算式，並回答問題。

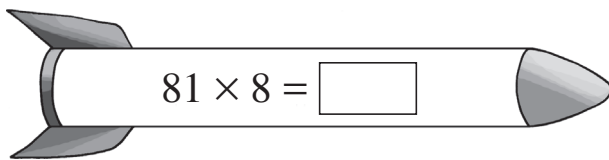
1



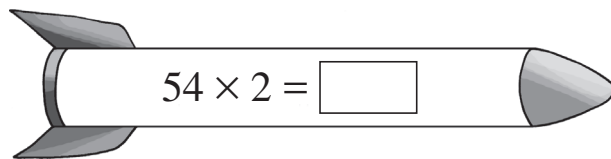
2



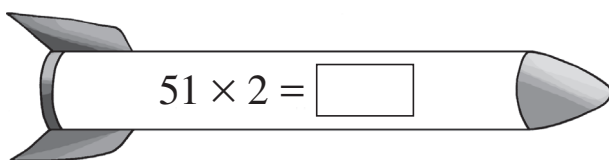
3



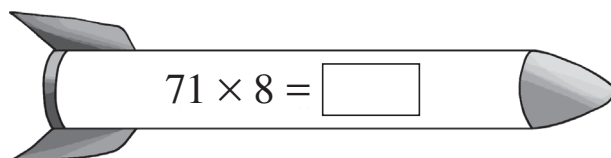
4



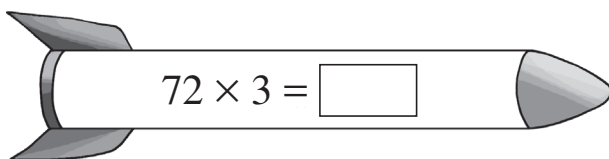
5



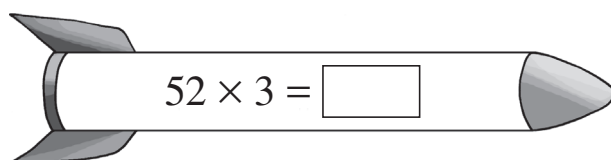
6



7



8



9

以上的飛彈中有一枚會射中目標，它的計算結果是其中最大的，把它填上顏色。

## 動物園

列式計算下列各題。

10

我們 3 人入場共  
需付多少元？



入場費  
成人  
小童  
一律 13 元



共需付：

$$\begin{array}{r} \square \bigcirc \square \\ = \square \text{ (元)} \end{array}$$

○	
<hr/>	

11

動物園內有 2 種猴子，每種猴子各有 34 隻，共  
有猴子多少隻？

共有猴子：

---

---

12

獅子每星期吃肉 51 公斤，5 星期共吃肉多少公斤？

---

---

---

13

動物園紀念章每個售 12 元，買 4 個紀念章需付  
多少元？

---

---

---