

姓名：_____

班別：_____ 日期：_____

我答對了：



0-5 題



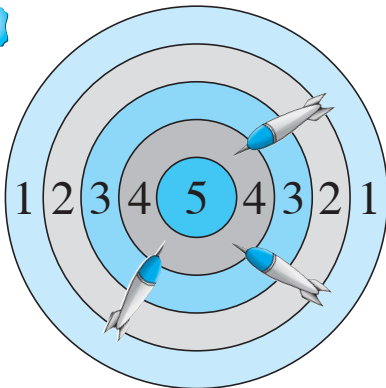
6-10 題



11-15 題

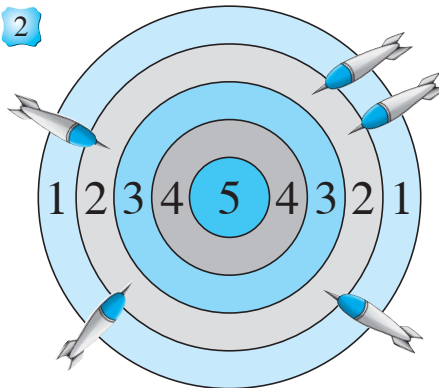
計算鏢靶上飛鏢所得的分數。

1



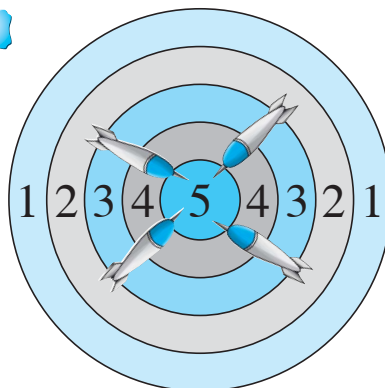
$$4 \times 3 = \boxed{12}$$

2



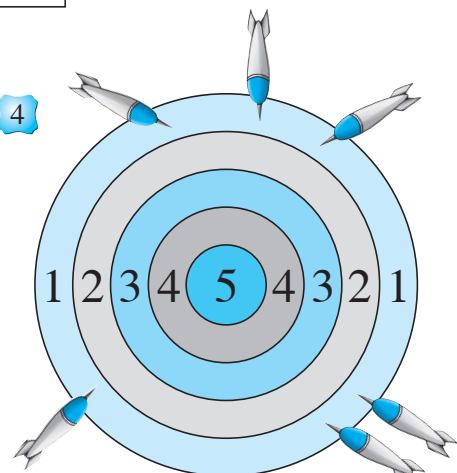
$$2 \times \boxed{5} = \boxed{10}$$

3



$$\boxed{5} \times \boxed{4} = \boxed{20}$$

4



$$\boxed{1} \times \boxed{6} = \boxed{6}$$

算算看。

5

$$\begin{array}{r} 2 \\ \times 1 \\ \hline \end{array}$$

 $\boxed{2}$

6

$$\begin{array}{r} 8 \\ \times 3 \\ \hline \end{array}$$

 $\boxed{24}$

7

$$\begin{array}{r} 7 \\ \times 7 \\ \hline \end{array}$$

 $\boxed{49}$

8

$$5 + 5 + 5 + 5 + 5 + 5 = \boxed{5} \times \boxed{6} = \boxed{30}$$

9

$$3 \text{ 的 } 7 \text{ 倍} = \boxed{3} \times \boxed{7} = \boxed{21}$$

10

$$8 \times 4 = \boxed{4} \times 8$$

結果都是 32。

11

$$9 \times 0 = \boxed{0} \times 2$$

結果都是 0。

步兵營

列式計算下列各題。

- 12 步兵練習步操的時候，會排成4列，每列有7人，共有步兵多少人？

共有步兵：

$$\begin{array}{r} \boxed{7} \times \boxed{4} \\ = \boxed{28} \text{ (人)} \end{array}$$

$$\begin{array}{r} \boxed{7} \\ \times \boxed{4} \\ \hline \boxed{28} \end{array}$$

- 13 8名步兵練習射擊，每名步兵獲發6顆子彈，共派發子彈多少顆？

共派發子彈：

$$\begin{array}{r} 6 \times 8 \\ \hline = 48 \text{ (顆)} \end{array}$$

$$\begin{array}{r} 6 \\ \times 8 \\ \hline 48 \end{array}$$

- 14 每個營房可容納6名步兵住宿。現有9個營房，共可容納步兵多少名？

共可容納步兵：

$$\begin{array}{r} 6 \times 9 \\ \hline = 54 \text{ (名)} \end{array}$$

$$\begin{array}{r} 6 \\ \times 9 \\ \hline 54 \end{array}$$

15

每週有1天假期。



這名步兵在8週內有假期多少天？

有假期：

$$\begin{array}{r} 1 \times 8 \\ \hline = 8 \text{ (天)} \end{array}$$

$$\begin{array}{r} 1 \\ \times 8 \\ \hline 8 \end{array}$$