

姓名：_____

班別：_____ 日期：_____

我答對了：



0-5 題



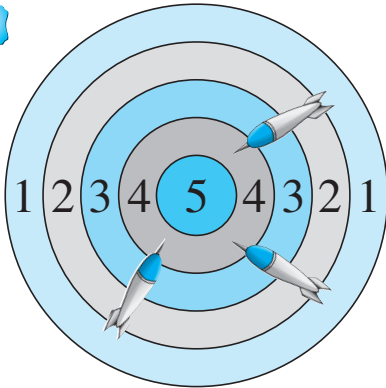
6-10 題



11-15 題

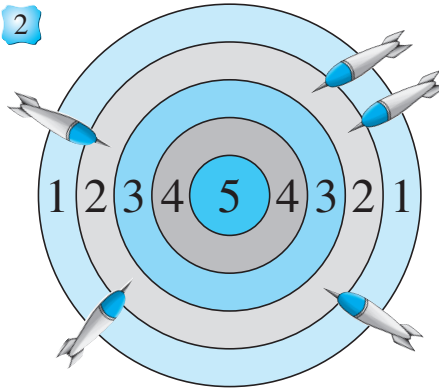
計算鏢靶上飛鏢所得的分數。

1



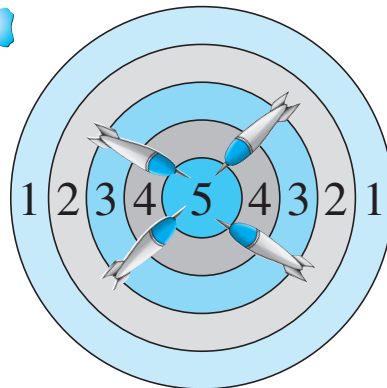
$4 \times 3 = \square$

2



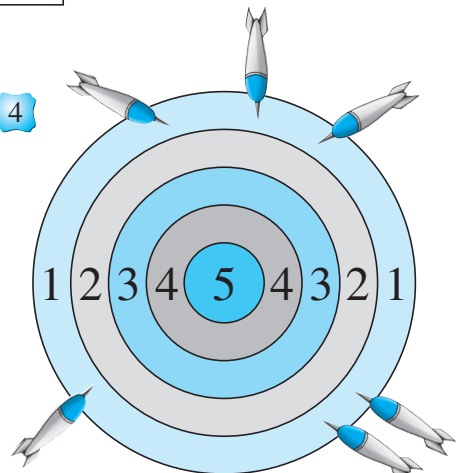
$2 \times \square = \square$

3



$\square \times \square = \square$

4



$\square \times \square = \square$

算算看。

5

$$\begin{array}{r} 2 \\ \times 1 \\ \hline \square \end{array}$$

6

$$\begin{array}{r} 8 \\ \times 3 \\ \hline \square \end{array}$$

7

$$\begin{array}{r} 7 \\ \times 7 \\ \hline \square \end{array}$$

8

$5 + 5 + 5 + 5 + 5 + 5 = \square \times \square = \square$

9

$3 \text{ 的 } 7 \text{ 倍} = \square \times \square = \square$

10

$8 \times 4 = \square \times 8$

11

$9 \times 0 = \square \times 2$

結果都是 _____。

結果都是 _____。

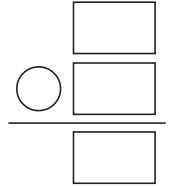
步兵營

列式計算下列各題。

- 12 步兵練習步操的時候，會排成4列，每列有7人，共有步兵多少人？


共有步兵：

$$\begin{array}{r} \square \bigcirc \square \\ = \square \text{ (人)} \end{array}$$




- 13 8名步兵練習射擊，每名步兵獲發6顆子彈，共派發子彈多少顆？

共派發子彈：



- 14 每個營房可容納6名步兵住宿。現有9個營房，共可容納步兵多少名？



15

每週有1天假期。



這名步兵在8週內有假期多少天？

