



7 毫米

姓名： _____

班別： _____ 日期： _____


我答對了：

0-5 題 6-10 題 11-15 題

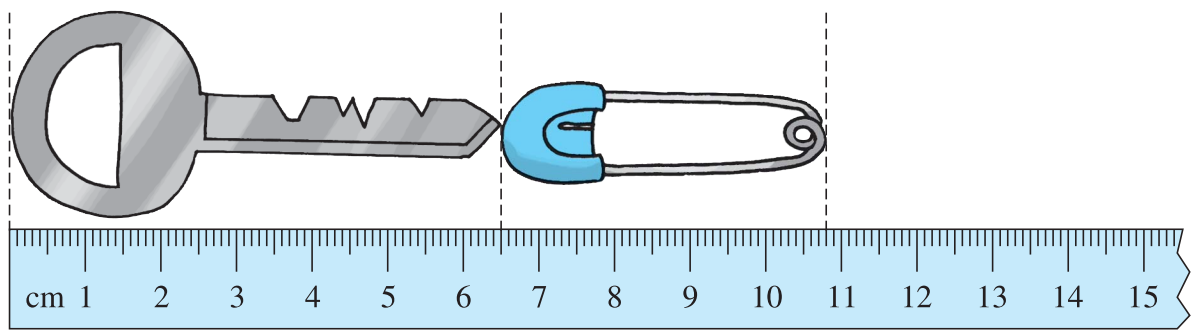
量量看。

- 1 A 點與 B 點相距 35 毫米。
- 2 B 點與 D 點相距 78 毫米。
- 3 A 點與 D 點相距 85 毫米。
- 4 B 點與 C 點相距 105 毫米。

有需要可畫出各直線再量量看！



看圖回答下列問題。



- 5 長 65 毫米。
- 6 長 43 毫米。
- 7 比 長 22 毫米。

填填看。

8 $30\text{ cm} = \boxed{300}\text{ mm}$

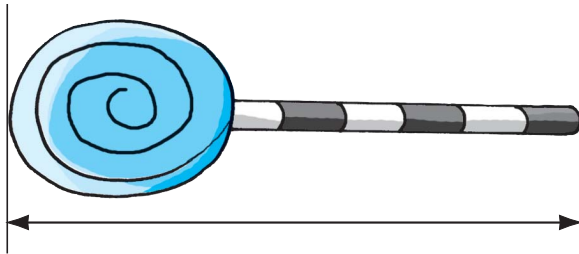
9 $14\text{ 厘米 } 2\text{ 毫米} = \boxed{142}\text{ 毫米}$

10 $580\text{ mm} = \boxed{58}\text{ cm}$

11 $1\text{ 米 } 1\text{ 厘米} = \boxed{1010}\text{ 毫米}$

先估計下列物件的長度，然後量量看。

12




估計： 略 毫米
量度： 76 毫米

13



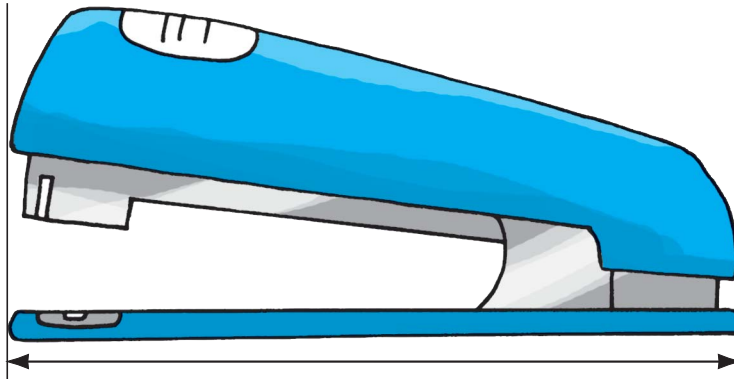
估計： 略 毫米
量度： 27 毫米

14



估計： 略 毫米
量度： 102 毫米

15



估計： 略 毫米
量度： 97 毫米