



# 7 毫米

姓名： \_\_\_\_\_

班別： \_\_\_\_\_ 日期： \_\_\_\_\_


我答對了：

0-5 題 6-10 題 11-15 題

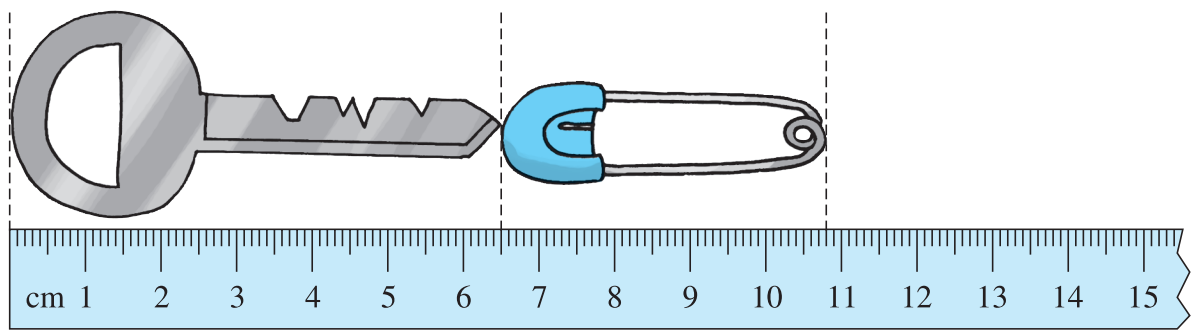
量量看。

- 1 A 點與 B 點相距 \_\_\_\_\_ 毫米。
- 2 B 點與 D 點相距 \_\_\_\_\_ 毫米。
- 3 A 點與 D 點相距 \_\_\_\_\_ 毫米。
- 4 B 點與 C 點相距 \_\_\_\_\_ 毫米。

有需要可畫出各直線再量量看！



看圖回答下列問題。



- 5 長 \_\_\_\_\_ 毫米。
- 6 長 \_\_\_\_\_ 毫米。
- 7 比 長 \_\_\_\_\_ 毫米。

填填看。

8  $30 \text{ cm} = \square \text{ mm}$

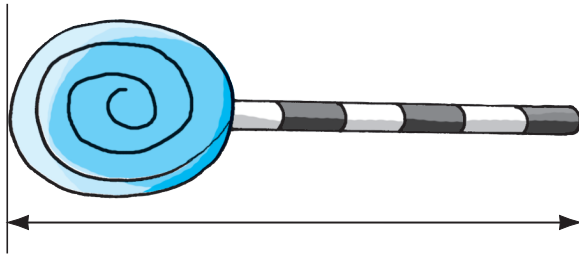
9 14 厘米 2 毫米 =  $\square$  毫米

10  $580 \text{ mm} = \square \text{ cm}$

11 1 米 1 厘米 =  $\square$  毫米

先估計下列物件的長度，然後量量看。

12




估計：\_\_\_\_\_ 毫米  
量度：\_\_\_\_\_ 毫米

13



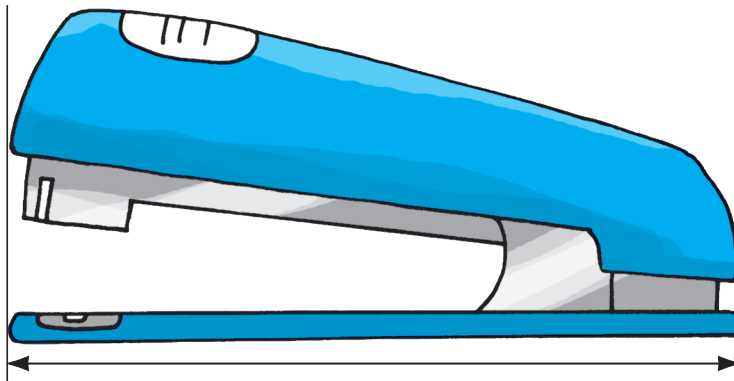
估計：\_\_\_\_\_ 毫米  
量度：\_\_\_\_\_ 毫米

14



估計：\_\_\_\_\_ 毫米  
量度：\_\_\_\_\_ 毫米

15



估計：\_\_\_\_\_ 毫米  
量度：\_\_\_\_\_ 毫米