

14

除法複習

姓名：_____

班別：_____ 日期：_____

我答對了：

0-5 題 6-10 題 11-16 題

在空格內填寫除式中各部分的名稱。

1

$$\begin{array}{r} 9 \\ 7 \overline{) 65} \\ \underline{63} \\ 2 \end{array}$$

除數：7
商：9
被除數：65
餘數：2

2

$$\begin{array}{r} 2 \cdots 6 \\ 7 \overline{) 20} \\ \underline{14} \\ 6 \end{array}$$

除數：7
被除數：20
商：2
餘數：6

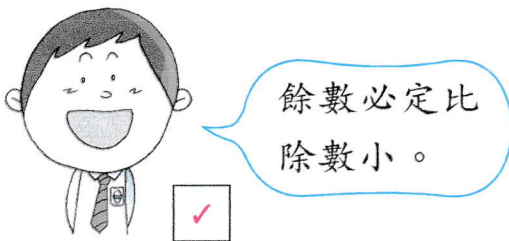
3

$$37 \div 9 = 4 \cdots 1$$

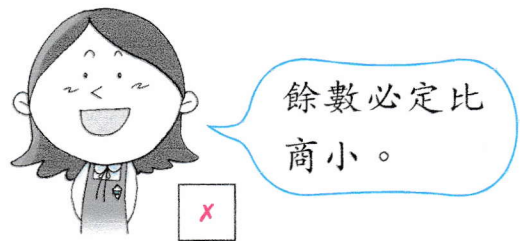
被除數：37
除數：9
商：4
餘數：1

對的在空格內加「✓」，錯的加「✗」。

4



5



算算看。

6 $48 \div 6 = \boxed{8}$

7 $30 \div 5 = \boxed{6}$

8 $55 \div 7 = \boxed{7} \cdots \boxed{6}$

9 $30 \div 9 = \boxed{3} \cdots \boxed{3}$

10

$$\begin{array}{r} 9 \\ 3 \overline{) 28} \\ \underline{27} \\ 1 \end{array}$$

11

$$\begin{array}{r} 5 \\ 7 \overline{) 38} \\ \underline{35} \\ 3 \end{array}$$

12

$$\begin{array}{r} 6 \\ 8 \overline{) 52} \\ \underline{48} \\ 4 \end{array}$$

超級市場


列式計算下列各題。

- 13 有 24 罐罐頭粟米，裝成每 6 罐一盒，可分成多少盒？

可分成：

$$\begin{array}{r} \boxed{24} \div \boxed{6} \\ = \boxed{4} \text{ (盒)} \end{array}$$

$$\begin{array}{r} 4 \\ 6 \overline{)24} \\ \underline{24} \\ 0 \end{array}$$

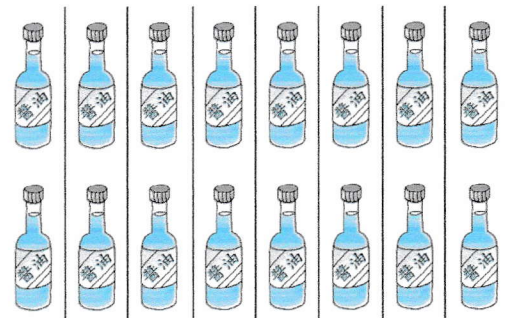


- 14 有 16 瓶醬油，裝成每 2 瓶一盒，可分成多少盒？

可分成：

$$\begin{array}{r} 16 \div 2 \\ = 8 \text{ (盒)} \end{array}$$

$$\begin{array}{r} 8 \\ 2 \overline{)16} \\ \underline{16} \\ 0 \end{array}$$



- 15 有 35 包即食麵，裝成每 5 包一袋，可分成多少袋？

可分成：

$$\begin{array}{r} 35 \div 5 \\ = 7 \text{ (袋)} \end{array}$$

$$\begin{array}{r} 7 \\ 5 \overline{)35} \\ \underline{35} \\ 0 \end{array}$$



- 16 有 40 卷衛生紙，裝成每 10 卷一袋，可分成多少袋？

可分成：

$$\begin{array}{r} 40 \div 10 \\ = 4 \text{ (袋)} \end{array}$$

$$\begin{array}{r} 4 \\ 10 \overline{)40} \\ \underline{40} \\ 0 \end{array}$$

