

在適當的空格內加「✓」。

- ① 志華訪問了 12 個同學，看看他們有沒有飼養寵物及飼養了甚麼寵物，並製作了一個象形圖。




共有 6 個同學飼養寵物，
其中 2 個飼養小鳥，
1 個飼養小龜，
3 個飼養小狗。

以下哪一個是志華製作的象形圖？


同學們飼養的寵物

一個 😊 代表 1 人




同學們飼養的寵物

一個 😊 代表 1 人




同學們飼養的寵物

一個 😊 代表 1 人



同學們飼養的寵物

一個 😊 代表 1 人




天氣

天明把三月份每天的天氣情況記錄下來，結果如下：



② 根據資料加畫「○」，完成象形圖。







根據象形圖，回答下列各題。

③ 以下哪一項最適合用來表達這個三月份的天氣？

- 這個月大部分的日子都有雷電出現。
- 這個月較多的日子是天朗氣清的。
- 這個月差不多天天都下雨。

④ 在這個三月份，最少出現的天氣是：

( /  /  / )，只有 4 天。