




# 象形圖(一)

## 字母模型

志華有一些字母模型。



① 把每個字母模型的數量填在下表中。

字母模型	A	B	C	D
數量	5	8	2	6

② 依各字母模型的數量，寫上英文字母，製作象形圖，並寫上象形圖的名稱。

字母模型的數量

或其他合理標題

一幅圖代表 1 個字母模型

A

A

A

A

A

B

B

B

B

B

B

B

B

B

C

C

D

D

D

D

D

D

D

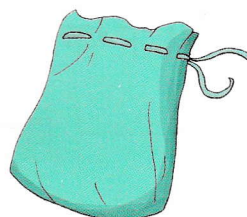
注意一對一整齊地寫上各字母。

根據象形圖，回答下列各題。

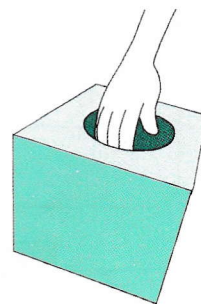
- ③ 數量最多的字母是「B」，有 8 個。
- ④ 數量最少的字母是「C」，只有 2 個。
- ⑤ 字母「A」的數量比「D」的少 1 個。
- ⑥ 字母「A」的數量比「C」的多 3 個。
- ⑦ 字母「B」的數量是「C」的 4 倍。

想一想，回答下列問題。

- ⑧ 志華把字母模型放入一個袋中。  
如果袋子最多可裝 20 個字母模型，志華  
(可以 / 不可以) 把所有字母模型放入  
袋中。




- ⑨ 把字母模型全部放入箱中，然後隨意抽取  
其中一個，如果說字母「C」會較難被抽  
出，你同意嗎？為甚麼？  
(同意 / 不同意)，因為 \_\_\_\_\_



略。例：同意，因為數量最少，所以被抽出的機會亦較小。

⑩



要使字母「B」的數量比其餘每  
一種字母都少，最少要取走  
7 個字母「B」。