

姓名：\_\_\_\_\_

班別：\_\_\_\_\_ 日期：\_\_\_\_\_

我答對了：



0-2 題



3-4 題



5-7 題

乘式中各數的名稱是甚麼？連連看。

1

8

×

3

=

24

•

•

•

•

•

•

積

乘數

被乘數

填填看。


2 一隻蝸牛有 2 隻眼睛，3 隻蝸牛共有 \_\_\_\_\_ 隻眼睛。

$2 + 2 + 2 = \square$

2 的 3 倍是 \_\_\_\_\_

用乘式表示： $2 \times 3 = \square$

讀作：2 乘以 3 等於 \_\_\_\_\_




3 一盒有 6 枝鉛筆，5 盒共有 \_\_\_\_\_ 枝鉛筆。

$6 + 6 + 6 + 6 + 6 = \square$

5 個 6 是 \_\_\_\_\_

用乘式表示： $6 \times \square = \square$


讀作：6 乘以 \_\_\_\_\_ 等於 \_\_\_\_\_



把結果相同的降落傘和草堆填上相同的顏色。


4

$$4 + 4 + 4 + 4$$




5

$$7 \times 9$$



6

$$9 \times 3$$



7

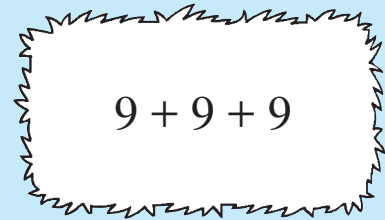
5 的 4 倍



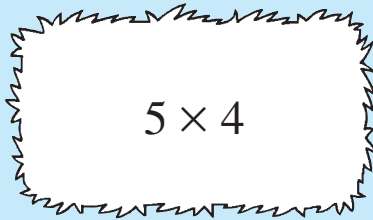
4 的 4 倍



$$9 + 9 + 9$$



$$5 \times 4$$



9 個 7

