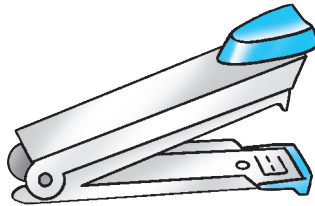


# 7 角


姓名： \_\_\_\_\_  
班別： \_\_\_\_\_ 日期： \_\_\_\_\_  
我答對了：  
🤖 0-3 題    🤖 4-6 題    🤖 7-8 題

依指示把角填上顏色。

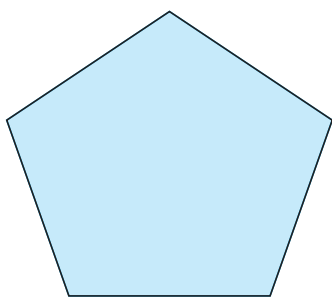
1 釘書機所形成的角



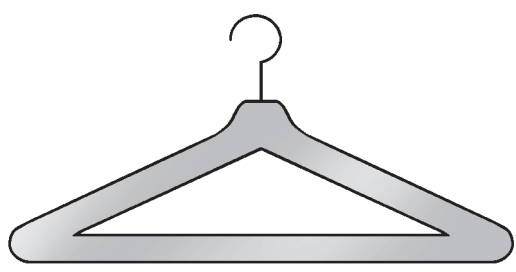
2 扶手電梯與地面形成的角



3 五邊形的 5 個角

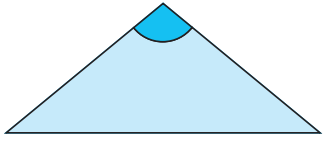
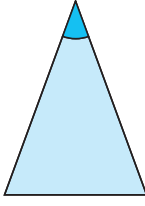
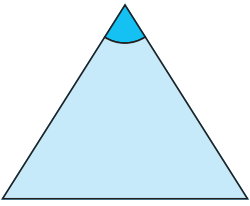


4 衣架框所形成的 3 個角

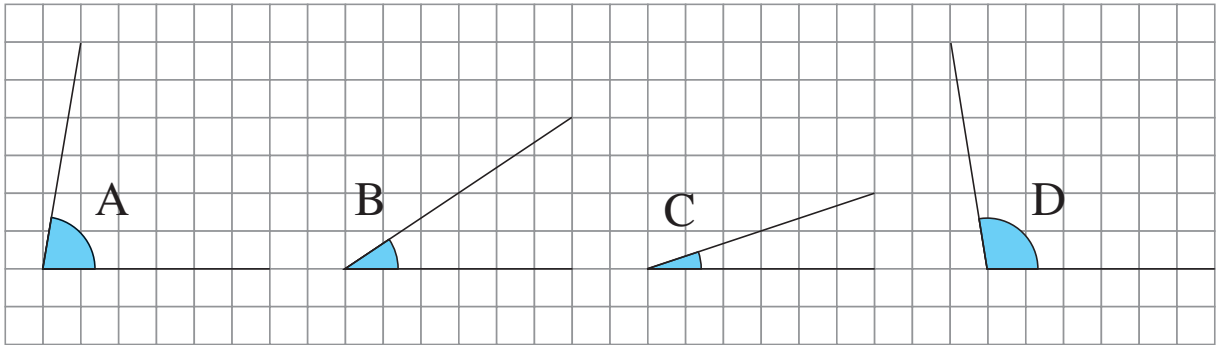


把指定的角由小至大排列，在空格內填寫 1 至 3 (1 表示最小，3 表示最大)。

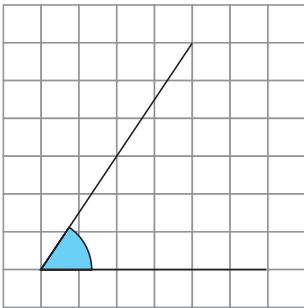
5



看看下面的角，然後以代表角的英文字母回答問題。



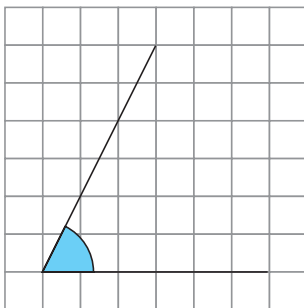
6



上圖中，比左面的角小的有：

\_\_\_\_\_

7



上圖中，比左面的角大的有：

\_\_\_\_\_

試在下面的釘點紙上畫出兩個比左面的角小的角。

8

