

6

米和厘米

姓名： _____

班別： _____ 日期： _____

我答對了：



0-5 題



6-10 題



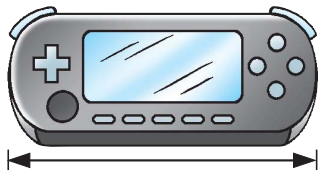
11-14 題

把物件和合適的長度單位連起來。

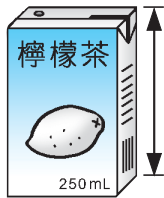
1 大廈



2 手提遊戲機



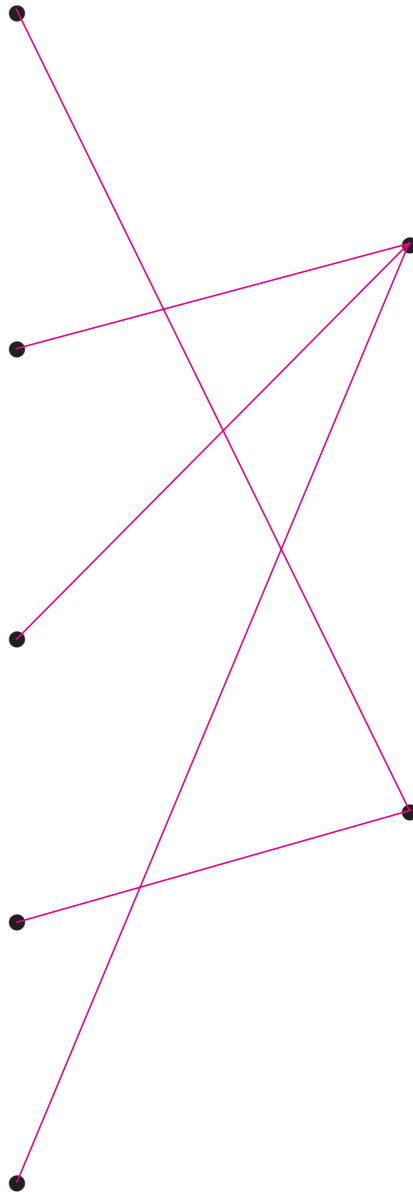
3 檸檬茶盒



4 山



5 腳



厘米

米

用單名數記錄下列的長度。

6 1 米 12 厘米 112 厘米

7 4 米 30 厘米 430 厘米


8 5 米 8 厘米 508 厘米

9 9 米 9 厘米 909 厘米

畫一畫、圈一圈。

10 在空格內，從 A 點開始用藍色筆畫一條 12 厘米長的直線。

11 在空格內，從 B 點開始用紅色筆畫一條 7 厘米長的直線。




——— 藍線
----- 紅線

12 (藍 / 紅) 線較長。

你會用哪一種工具或身體的哪一部分來量度下列物件的長度？圈出適當的答案。

13 行人天橋的長度



14 睡牀的長度

