

6

米和厘米

姓名： _____

班別： _____ 日期： _____

我答對了：



0-5 題



6-10 題



11-14 題


把物件和合適的長度單位連起來。

1 大廈



•

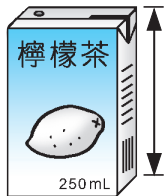
2 手提遊戲機



•

厘米

3 檸檬茶盒



•

4 山



•

米

5 腳




•

用單名數記錄下列的長度。

- 6 1 米 12 厘米 _____ 厘米 7 4 米 30 厘米 _____ 厘米
8 5 米 8 厘米 _____ 厘米 9 9 米 9 厘米 _____ 厘米

畫一畫、圈一圈。

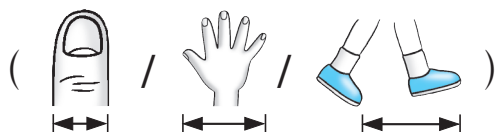

- 10 在空格內，從 A 點開始用藍色筆畫一條 12 厘米長的直線。
11 在空格內，從 B 點開始用紅色筆畫一條 7 厘米長的直線。



- 12 (藍 / 紅) 線較長。

你會用哪一種工具或身體的哪一部分來量度下列物件的長度？圈出適當的答案。

- 13 行人天橋的長度



- 14 睡牀的長度

