




4

加法(二)

姓名：_____

班別：_____ 日期：_____

我答對了：

 0-6 題
  7-12 題
  13-17 題

算算看。

$$\begin{array}{r} 1 \quad 207 \\ + \quad 53 \\ \hline \boxed{260} \end{array}$$

$$\begin{array}{r} 2 \quad 420 \\ + \quad 493 \\ \hline \boxed{913} \end{array}$$

$$\begin{array}{r} 3 \quad 135 \\ + \quad 246 \\ \hline \boxed{381} \end{array}$$

$$\begin{array}{r} 4 \quad 361 \\ \quad 34 \\ + \quad 70 \\ \hline \boxed{465} \end{array}$$

$$\begin{array}{r} 5 \quad 402 \\ \quad 88 \\ + \quad 304 \\ \hline \boxed{794} \end{array}$$

$$\begin{array}{r} 6 \quad 215 \\ \quad 233 \\ + \quad 191 \\ \hline \boxed{639} \end{array}$$

$$7 \quad 70 + 482 = \boxed{552}$$


$$8 \quad 316 + 624 = \boxed{940}$$

$$9 \quad 517 + 229 + 41 = \boxed{787}$$

$$10 \quad 110 + 195 + 123 = \boxed{428}$$


連連看。

11




$$329 + 104$$

12



$$216 + 247$$

13



$$271 + 182$$



$$463$$



$$453$$



$$443$$



$$433$$

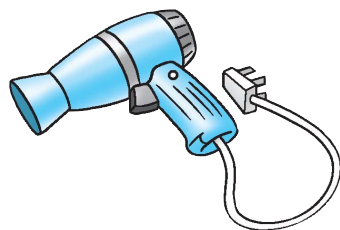


$$423$$

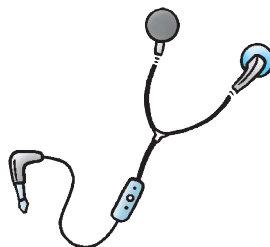
買電器



\$ 563



\$ 255



\$ 110



\$ 282

列式計算下列各題。

- 14 買一部  和一個 ，共付多少元？

$$\begin{aligned} \text{共付：} & 563 + \boxed{255} \\ & = \boxed{818} \text{ (元)} \end{aligned}$$


$$\begin{array}{r} 563 \\ + \boxed{255} \\ \hline \boxed{818} \end{array}$$

- 15 買一個  和一台 ，共付多少元？

$$\begin{aligned} \text{共付：} & \boxed{255} + \boxed{282} \\ & = \boxed{537} \text{ (元)} \end{aligned}$$

$$\begin{array}{r} \boxed{255} \\ + \boxed{282} \\ \hline \boxed{537} \end{array}$$

- 16 電器店上月售出 106 部 ，本月售出 217 部，
這兩個月共售出  多少部？

$$\begin{aligned} \text{這兩個月共售出} & \text{  : } \underline{106 + 217} \\ & = \underline{323 \text{ (部)}} \end{aligned}$$

$$\begin{array}{r} 106 \\ + 217 \\ \hline 323 \end{array}$$

- 17 買一部 、一個  和一台 ，共付多少元？

$$\text{共付： } \underline{563 + 110 + 282}$$

$$= \underline{955 \text{ (元)}}$$

$$\begin{array}{r} 563 \\ 110 \\ + 282 \\ \hline 955 \end{array}$$