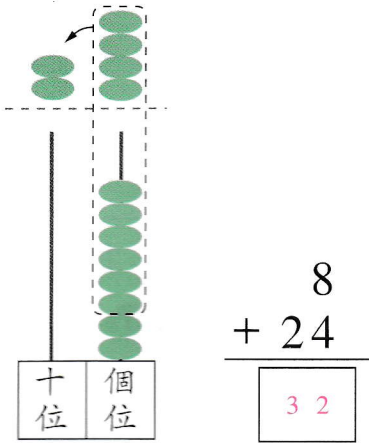


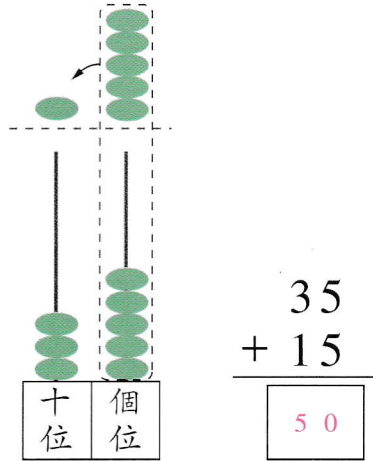


看算柱填答案。

① $8 + 24 =$ 32



② $35 + 15 =$ 50



5 + 7
= 22

48 + 29
= 77

27 + 4
= 31

算算看。

③ $\begin{array}{r} 18 \\ + 6 \\ \hline \end{array}$ 24

④ $\begin{array}{r} 33 \\ + 7 \\ \hline \end{array}$ 40

⑤ $\begin{array}{r} 5 \\ + 46 \\ \hline \end{array}$ 51

⑥ $\begin{array}{r} 29 \\ + 19 \\ \hline \end{array}$ 48

⑦ $\begin{array}{r} 64 \\ + 28 \\ \hline \end{array}$ 92



⑧ $\begin{array}{r} 44 \\ + 29 \\ \hline \end{array}$ 73

⑨ $4 + 77 =$ 81

⑩ $58 + 17 =$ 75

⑪ $25 + 39 =$ 64

⑫ $36 + 36 =$ 72

⑬ 媽媽買了 5 枝  ,
 17 枝  ,

共有花多少枝？

共有花：

$$5 + \boxed{17}$$

$$= \boxed{22} \text{ (枝)}$$


$$\begin{array}{r} 5 \\ + \boxed{17} \\ \hline \boxed{22} \end{array}$$

⑭ 原有 48 本圖書，
 再買了 29 本，
 共有圖書多少本？
 共有圖書：

$$\begin{array}{r} 48 + 29 \\ \hline \end{array}$$

$$= \boxed{77} \text{ (本)}$$

填寫直式。




$$\begin{array}{r} 48 \\ + 29 \\ \hline 77 \end{array}$$

⑮ 男生 27 人，
 女生比男生多 4 人，
 女生有多少人？
 女生有：

$$\begin{array}{r} 27 + 4 \\ \hline \end{array}$$

$$= \boxed{31} \text{ (人)}$$



$$\begin{array}{r} 27 \\ + 4 \\ \hline 31 \end{array}$$