

4

數的基本組合(1—5)

姓名： _____

班別： _____ 日期： _____

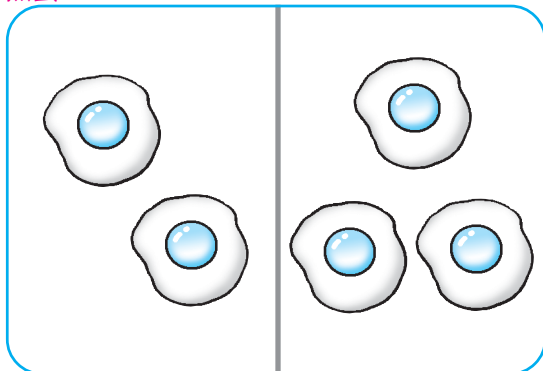
我答對了：

0-3 題 4-7 題 8-10 題

數一數、填一填。

煎蛋


1



$$2 + 3 = \boxed{5}$$

蘋果

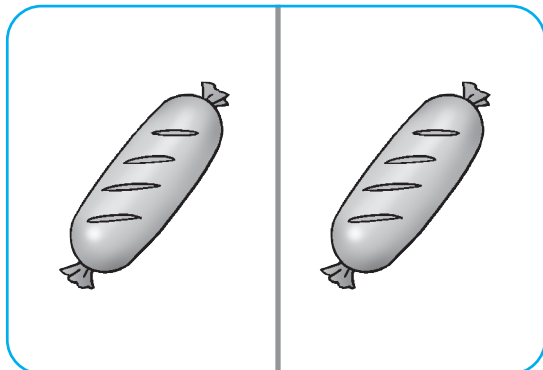
2



$$3 - 2 = \boxed{1}$$

香腸


3



$$1 + \boxed{1} = \boxed{2}$$

牛奶

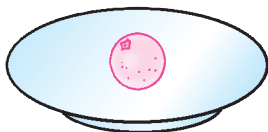
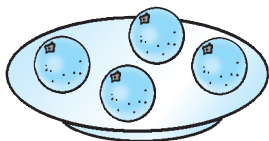
4



$$4 - \boxed{1} = \boxed{3}$$

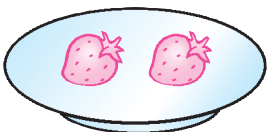
依數目在 上畫出適量的食物。

5



$$4 + 1 = 5$$

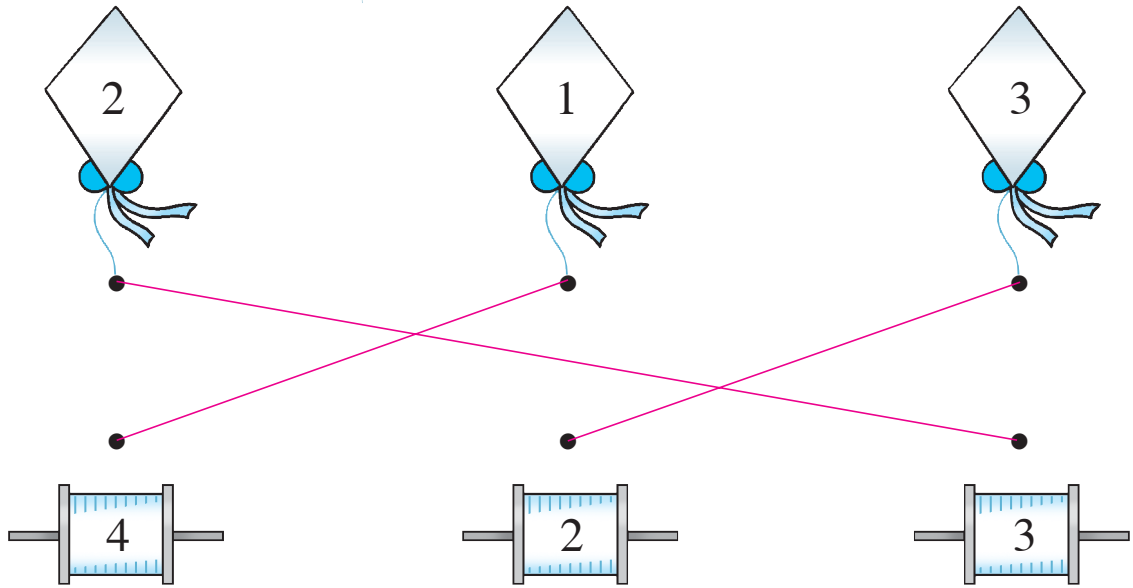
6



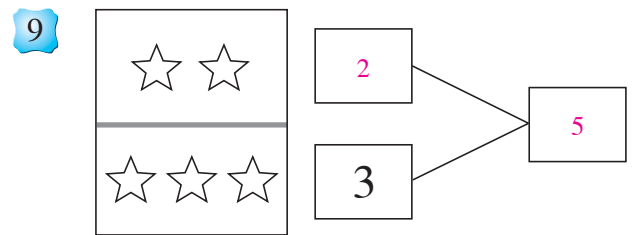
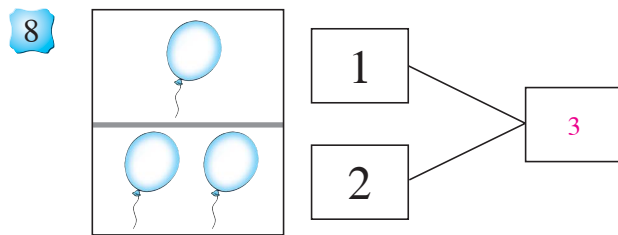
$$2 + \boxed{2} = 4$$

連連看。

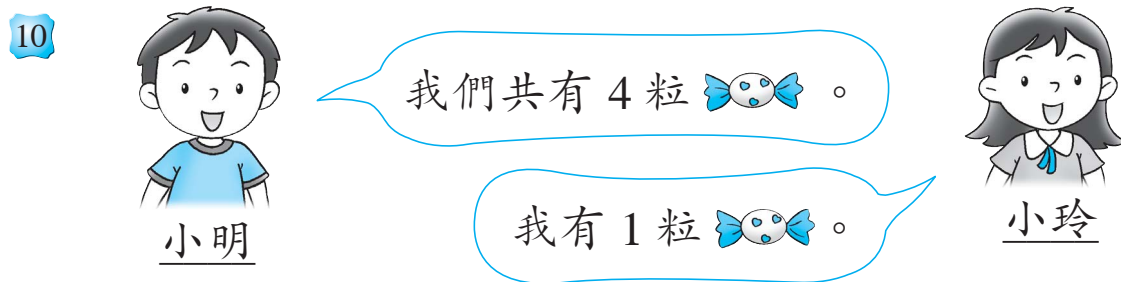
7 把能組成 5 的  和  連起來。



想一想、填一填。



在適當的圈內加「✓」。



- 小明有 1 粒糖果。
- 小明有 2 粒糖果。
- 小明有 3 粒糖果。