

4

數的基本組合(1—5)

姓名： _____

班別： _____ 日期： _____

我答對了：



0-3 題



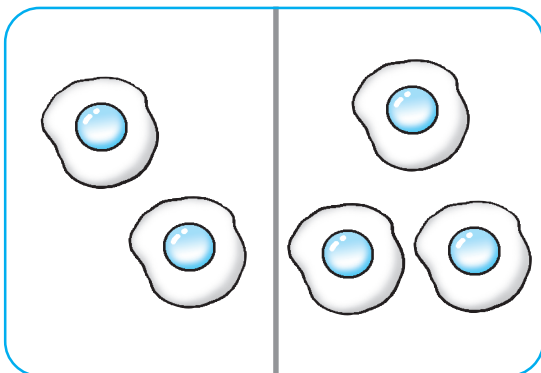
4-7 題



8-10 題


數一數、填一填。

1



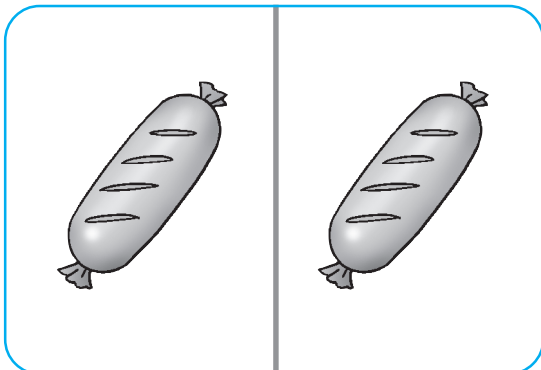
$$2 + 3 = \square$$

2




$$3 - 2 = \square$$

3



$$1 + \square = \square$$

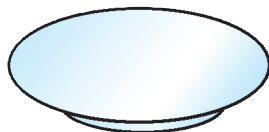
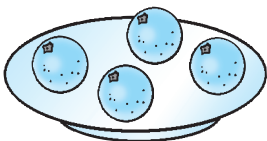
4



$$4 - \square = \square$$

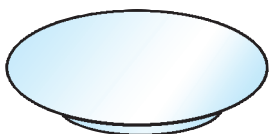

依數目在  上畫出適量的食物。

5



$$4 + 1 = 5$$

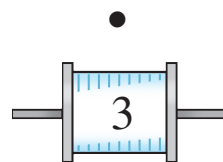
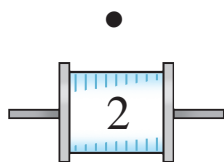
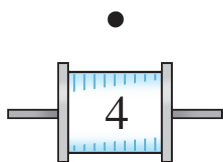
6



$$2 + \square = 4$$


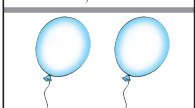
連連看。

7 把能組成 5 的  和  連起來。





想一想、填一填。

8

	1	}	□
	2		

9

	□	}	□
	3		

在適當的圈內加「✓」。

10




小明

我們共有 4 粒 。

我有 1 粒 。



小玲

- 小明有 1 粒 。
- 小明有 2 粒 。
- 小明有 3 粒 。