

3

單數和雙數 (1—10)

姓名： _____

班別： _____ 日期： _____

我答對了：



0-4 題




5-8 題



9-12 題

填一填、圈一圈。

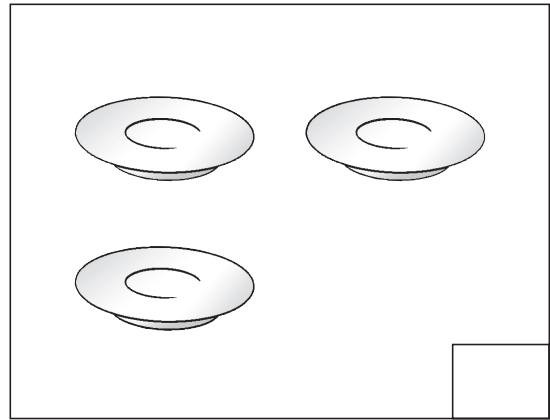
1



2

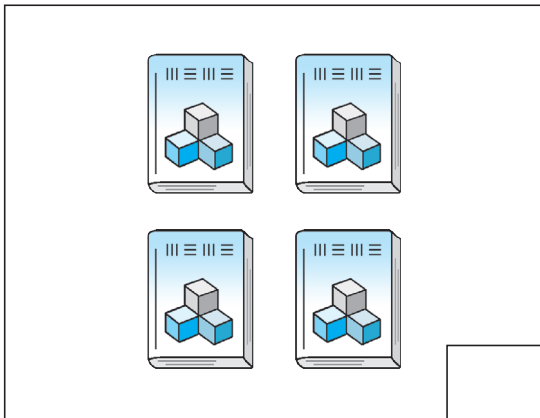
(單數 / 雙數)

2



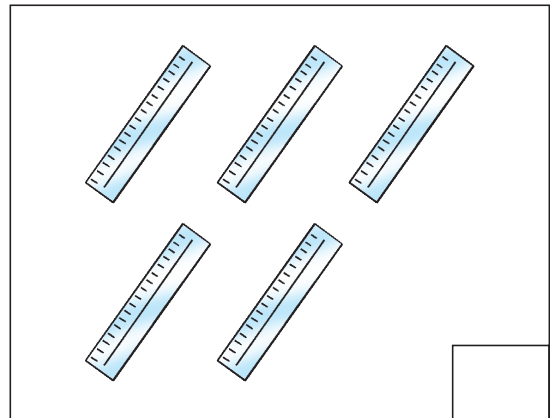
(單數 / 雙數)

3



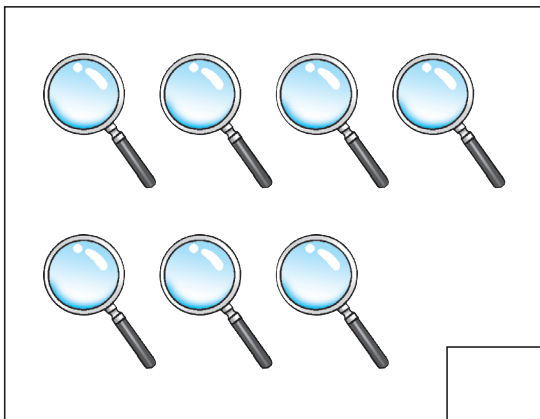
(單數 / 雙數)

4



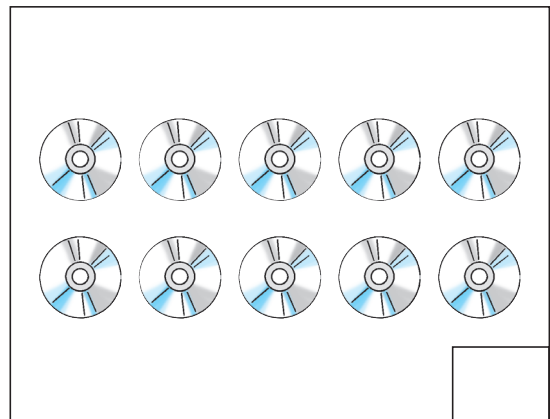
(單數 / 雙數)

5



(單數 / 雙數)

6



(單數 / 雙數)

在適當的圈內加「✓」。

7 下列各數中，哪一個是雙數？

3

4

5

7

8 下列各數中，哪一個是單數？

2

4

7

8

9 下列各數中，哪些是比 3 大的雙數？

8

5

2

6

10 下列各數中，哪些是比 6 大的單數？

5

7

8

9

11 下列各數中，哪些是比 8 小的單數？

1

9

5

4

把編號是單數的星球填上紅色，編號是雙數的填上藍色。

12

