

1

小數除法(一)

姓名：_____

班別：_____ 日期：_____

我答對了：



0-7 題



8-14 題



15-20 題

算算看。

1

$$7 \overline{) 3.5}$$

2

$$4 \overline{) 0.36}$$

3

$$18 \overline{) 57.6}$$

4

$$55 \overline{) 2.31}$$

5

$$3.9 \div 6 = \square$$

6

$$0.26 \div 4 = \square$$

7

$$9.66 \div 23 = \square$$

8

$$315 \div 0.9 = \square$$

9

$$1.2 \div 1.6 = \square$$

10

$$1.98 \div 5.5 = \square$$

11

$$0.55 \div 2.5 = \square$$

12

$$3.44 \div 0.43 = \square$$

13

$$0.1 \div 0.01 = \square$$

14

$$25.5 \div 0.75 = \square$$

在適當的圈內加「✓」。

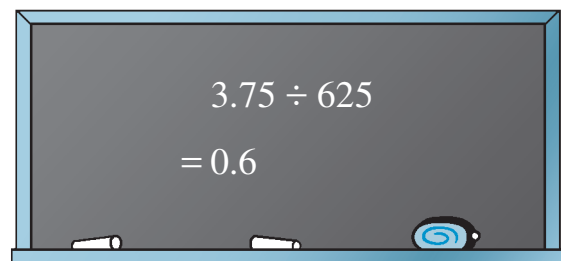
15

利用估算， $69.9 \div 2.02$ 的值大約是多少？ 3 3.5 30 35

16

凱麗在黑板上寫了一題小數除法的算式，但不小心寫漏了除數上的小數點。

除數應是甚麼？


 0.625 6.25 62.5 625

列式計算下列各題。


- 17 把 5.76 升果汁平均分給 16 人，每人可得果汁多少升？

每人可得果汁：


$$\begin{array}{l} \square \div \square \\ = \square \text{ (升)} \end{array}$$



- 18 媽媽在菜市場買了 2.5 公斤青菜，付了 7.5 元。
每公斤青菜售多少元？



- 19 媽媽買了一條重 1.75 公斤的大魚，付了 14.7 元。
每公斤大魚售多少元？



- 20 工人把一支長 1 米，重 50.04 公斤的鐵管
鋸成長度相同的 4 段，每段長多少米？重
多少公斤？

每段長：

每段重：

