

4

立體圖形(一)

姓名： _____

班別： _____ 日期： _____

我答對了：



0-4 題



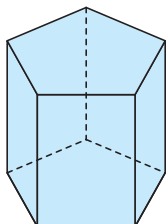
5-9 題



10-13 題

填寫下列各立體圖形的名稱，以及頂和棱的數目。

1

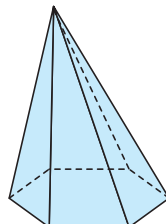


五角柱 體

10 個頂

15 條棱

2



六角錐 體

7 個頂

12 條棱

填寫下列各立體圖形的頂和棱的數目。


3



4



5



在適當的圈內加「✓」。

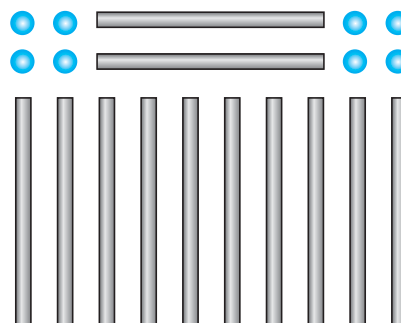
6 用右面的竹枝和膠泥粒可做出的立體是：

七角錐體

正方體

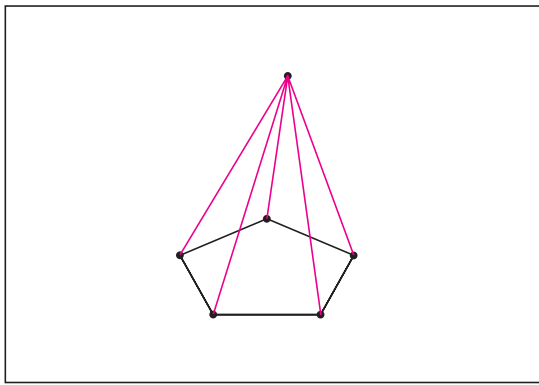
五角柱體

八角柱體



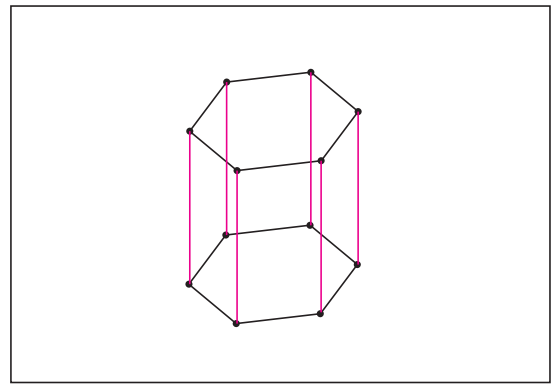
在圖中加畫直線，完成指定的立體圖形。

7



五角錐體

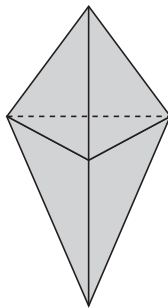
8



六角柱體

看圖填答案。

9

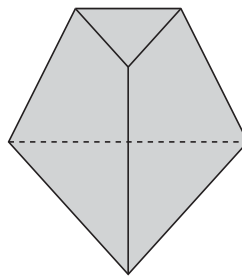


六面體

 5 個頂

 9 條棱

10

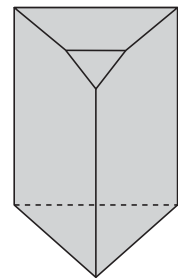


三角錐體去頂

 6 個頂

 9 條棱

11



三角柱體削去一角

 8 個頂

 12 條棱

想一想、填一填。

12 一個角柱體有 10 個頂；這是一個 五角 柱體，有 15 條棱。

13 一個角錐體有 10 個頂；這是一個 九角 錐體，有 18 條棱。