



6

圓的製作

姓名： _____


班別： _____ 日期： _____

我答對了：

0-3 題 4-6 題 7-9 題


依指示畫圓，並量度圓的直徑。

1 沿五元硬幣的邊緣畫圓



直徑： 2.6 cm


2 沿汽水罐罐頂的邊緣畫圓



直徑： 5.8 cm

用任何一種方法以「×」為圓心畫出指定大小的圓。

3 半徑是 2.7 厘米



4 直徑是 7 厘米

