



5

圓的認識(二)

姓名： _____

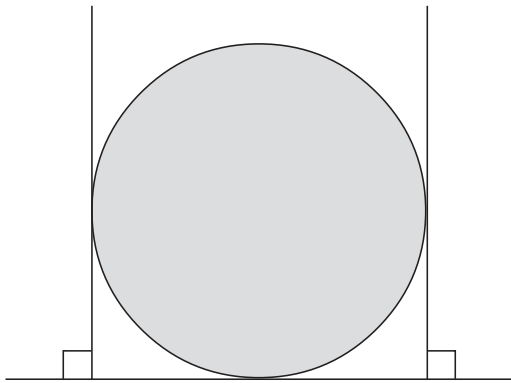
班別： _____ 日期： _____

我答對了：

0-4 題 5-7 題 8-10 題

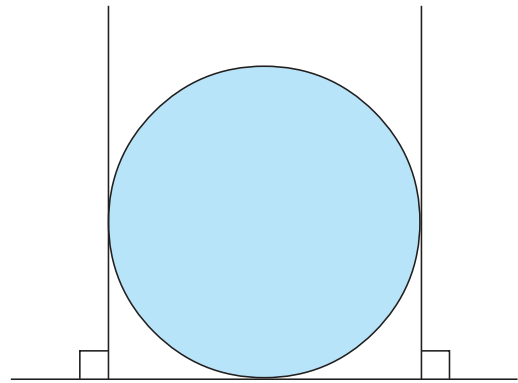
量度下列各圖中圓的直徑。

1



直徑： 4.5 cm

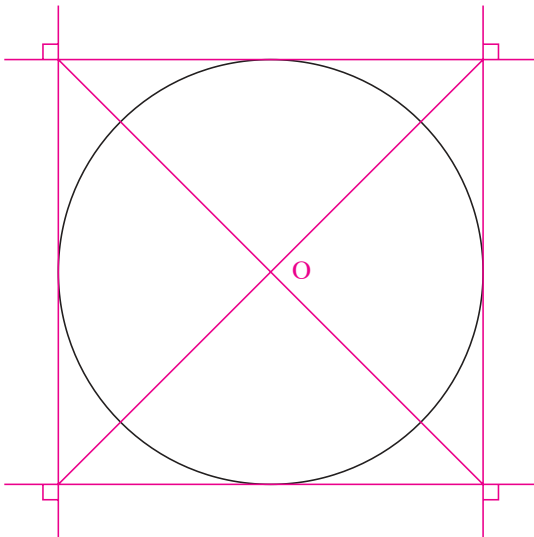
2



直徑： 4.2 cm

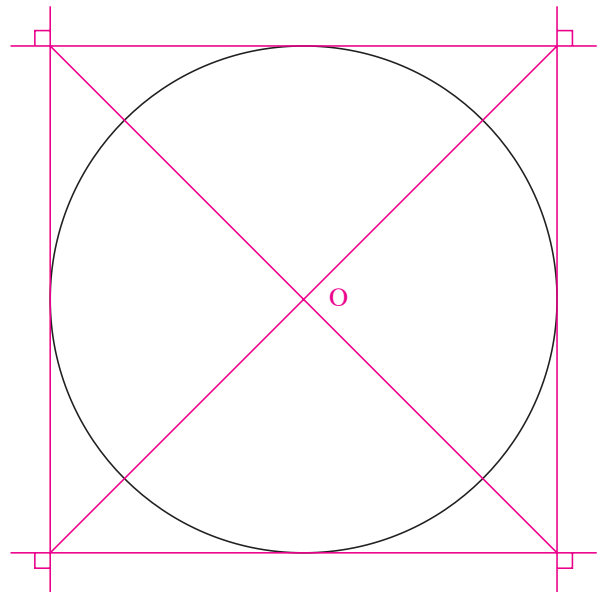
找出下列各圓的圓心位置，在旁邊寫上英文字母 O，然後量度各圓的直徑。

3



直徑： 5.7 cm

4



直徑： 6.8 cm