

重溫 **7** 平面圖形 (一)

1. (a) 菱

留意圖形是四邊相等，所以是菱形。

(b) 梯

2. 4

3. 菱

把手工紙打開後得出的形狀：



4. C

獨立的三角形：4 個

由兩個圖形組成的三角形：4 個

5. A

B. 長方形有兩組對邊平行。

C. 菱形有兩組對邊平行。

D. 平行四邊形有兩組對邊平行。


6. C

A. 平行四邊形有兩組對邊相等，但不是四邊相等。

B. 平行四邊形有兩組對角相等，但不是直角。

D. 正方形、平行四邊形和菱形都有兩組對邊平行。

7. D



這是平行四邊形，它有兩組對角相等，兩個鈍角及兩組對邊平行。



1. (a) 平行四邊



(b) 梯

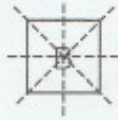


2. (a) 1



(b) C : D

(c) B : 4



3. C

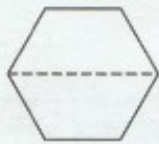
I.



II.



4. A



5. B

A. 6 條對稱軸



C. 無限多條對稱軸

D. 8 條對稱軸

