

# 1 方向(一)

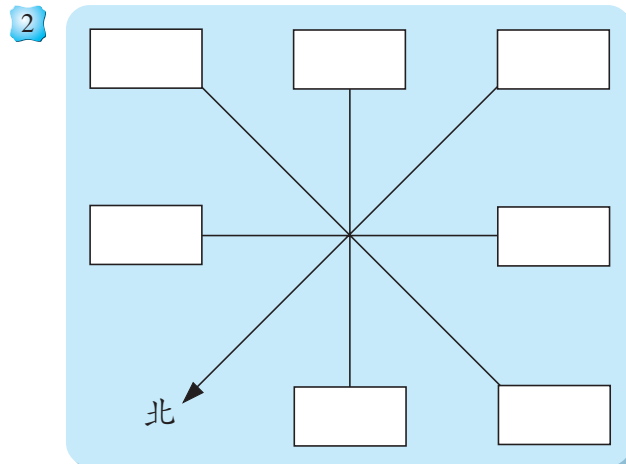
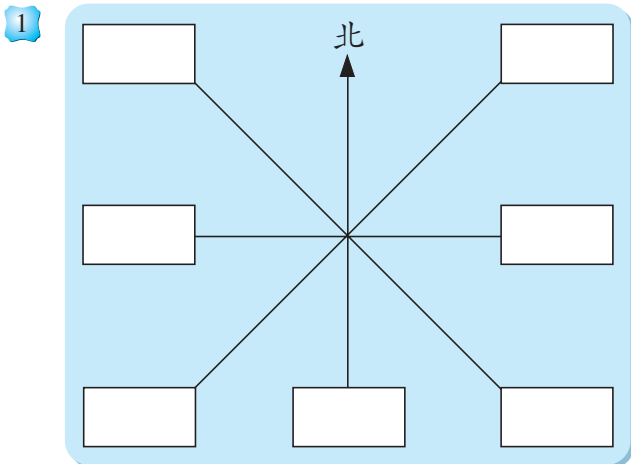
姓名：\_\_\_\_\_

班別：\_\_\_\_\_ 日期：\_\_\_\_\_

我答對了：

0-6 題 7-13 題 14-19 題

把適當的方向填在空格內。



依右圖的水果的擺放位置，回答下列各題。

3 西瓜在南瓜的 \_\_\_\_\_ 方。

4 香蕉在南瓜的 \_\_\_\_\_ 方。

5 葡萄在南瓜的 \_\_\_\_\_ 方。

6 桃在菠蘿的 \_\_\_\_\_ 方。

7 桃在香蕉的 \_\_\_\_\_ 方。

8 桃在蘋果的 \_\_\_\_\_ 方。


9 \_\_\_\_\_ 在南瓜的西北方。

10 香蕉在 \_\_\_\_\_ 的東北方。


11 \_\_\_\_\_ 和 \_\_\_\_\_ 都是在葡萄的北方。

12 \_\_\_\_\_ 在橙的南方，亦在葡萄的西方。


13 \_\_\_\_\_ 在菠蘿的東北方，亦在蘋果的西方。



# 西遊記



根據上圖各地點的位置，回答下列各題。

- 14 「龍宮」在「盤絲洞」的 \_\_\_\_\_ 方。
- 15 「雷音寺」在「火焰山」的 \_\_\_\_\_ 方。
- 16 「無底洞」在「女兒國」的 \_\_\_\_\_ 方。
- 17 從「五指山」一直往西方走，必定經過「\_\_\_\_\_」，最後到達「\_\_\_\_\_」。
- 18 「\_\_\_\_\_」在「火焰山」的南方，同時在「女兒國」的東北方。
- 19 「水簾洞」位於「五指山」的西南方，同時在「雷音寺」的東南方。  
從貼紙頁中取出  圖，貼在上圖適當的位置。