

# 5

## 立體圖形(二)

姓名：\_\_\_\_\_

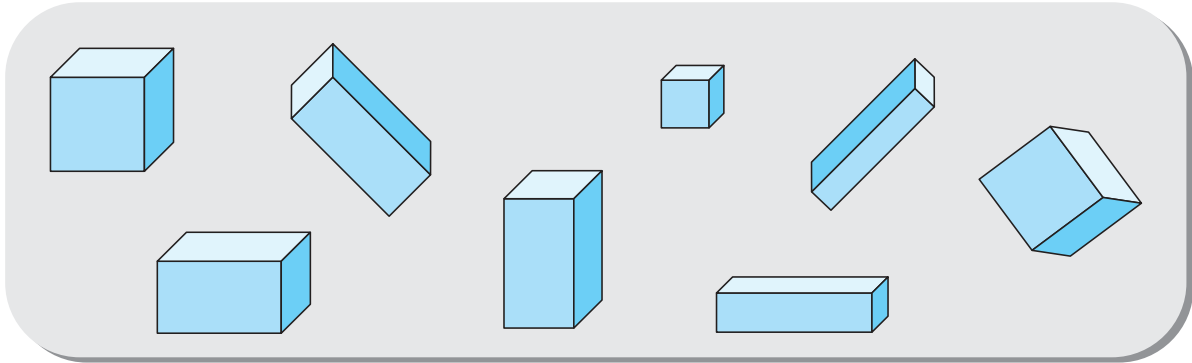
班別：\_\_\_\_\_ 日期：\_\_\_\_\_

我答對了：

 0-4 題  5-8 題  9-11 題

看圖回答問題。

1

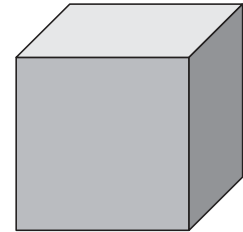


上圖中，有 3 個正方體和 5 個長方體。


2

右圖是一個正方體，

它的每一個面都是 正方 形。



3



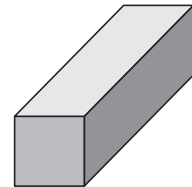
左圖是一個長方體，

它的每一個面都是 長方 形。

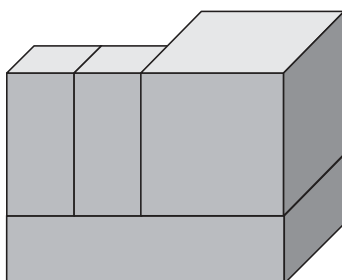
4

右圖是一個長方體，

它的面分別由 正方 形和 長方 形組成。



5



左圖分別由 1 個正方體

和 3 個長方體組成。