

姓名：\_\_\_\_\_

班別：\_\_\_\_\_ 日期：\_\_\_\_\_

我答對了：



0-4 題

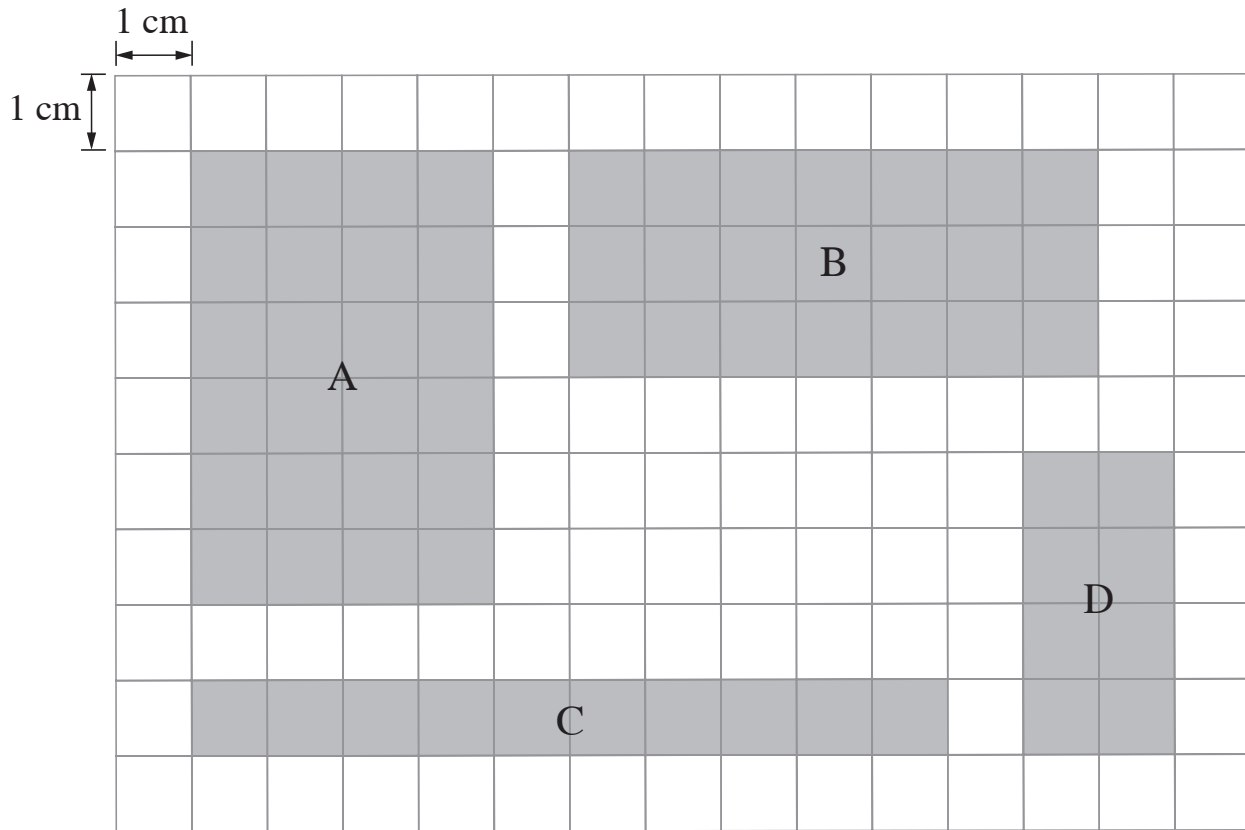


5-8 題



9-11 題

計算下列長方形的周界。



	長方形	長	闊	周界
1	A	6 cm	4 cm	20 cm
2	B	7 cm	3 cm	20 cm
3	C	10 cm	1 cm	22 cm
4	D	4 cm	2 cm	12 cm


- 5 長方形 A 和長方形 B 的周界相同。
- 6 長方形 C 的周界最長。
- 7 長方形 D 的周界最短。

列式計算下列各題。

- 8 數學課本長 28 厘米，闊 21 厘米，它的周界是多少厘米？

它的周界是：


$$\begin{aligned} & (\boxed{28} + \boxed{21}) \times \boxed{2} \\ & = \boxed{98} \text{ (厘米)} \end{aligned}$$



- 9 小欣的長方形餐桌長 92 厘米，闊 70 厘米，它的周界是多少厘米？

它的周界是：


$$\begin{aligned} & (92 + 70) \times 2 \\ & = 324 \text{ (厘米)} \end{aligned}$$



- 10 現代小學的長方形游泳池長 50 米，闊 20 米。志文圍着它走一圈，即走了多少米？

即走了：

$$\begin{aligned} & (50 + 20) \times 2 \\ & = 140 \text{ (米)} \end{aligned}$$



- 11 長方形課室長 12 米，闊 5 米。同學們用彩帶圍課室一周作聖誕佈置，彩帶共長多少米？

彩帶共長：

$$\begin{aligned} & (12 + 5) \times 2 \\ & = 34 \text{ (米)} \end{aligned}$$

