

姓名：_____

班別：_____ 日期：_____

我答對了：



0-4 題

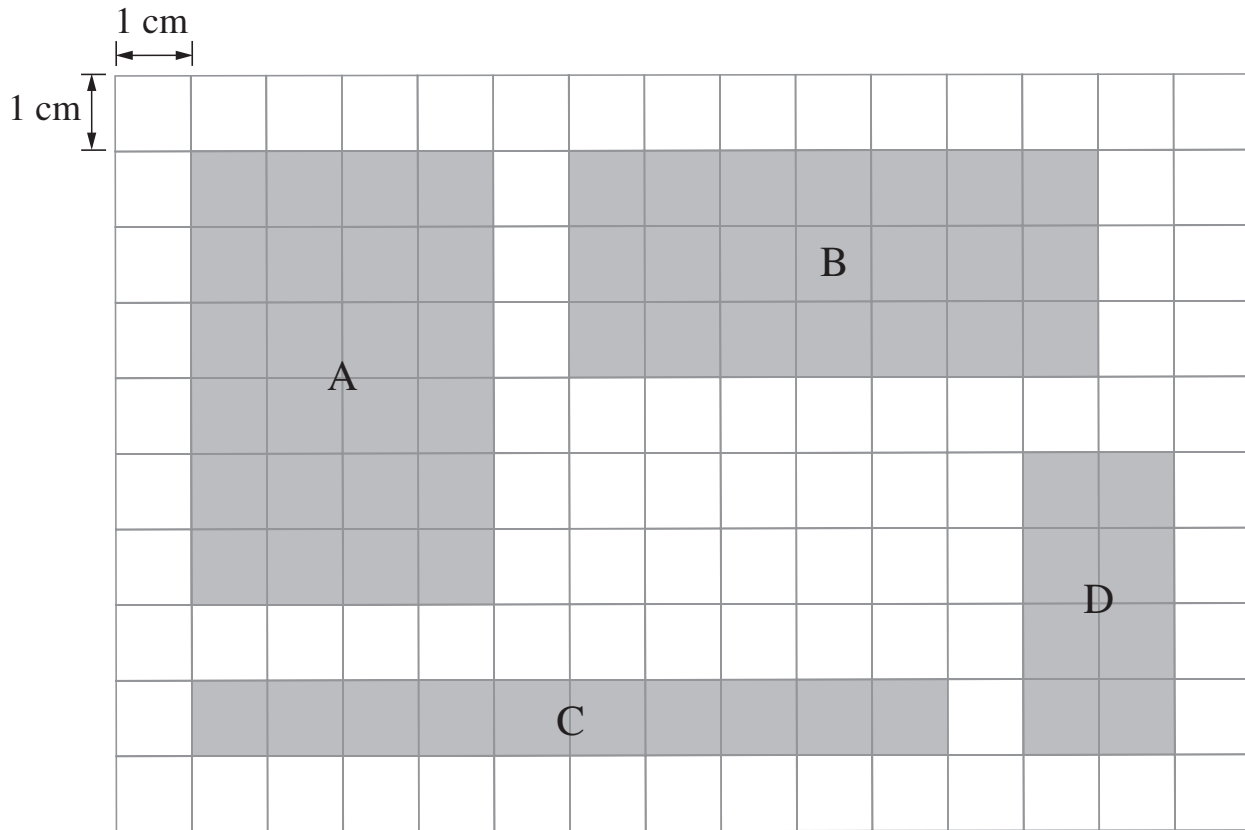


5-8 題



9-11 題

計算下列長方形的周界。



	長方形	長	闊	周界
1	A	6 cm	cm	cm
2	B	cm	3 cm	cm
3	C	cm	1 cm	cm
4	D	4 cm	cm	cm


- 5 長方形 _____ 和長方形 _____ 的周界相同。
- 6 長方形 _____ 的周界最長。
- 7 長方形 _____ 的周界最短。

列式計算下列各題。

- 8 數學課本長 28 厘米，闊 21 厘米，它的周界是多少厘米？


它的周界是：

$$\begin{aligned} & (\square + \square) \times \square \\ & = \square \text{ (厘米)} \end{aligned}$$




- 9 小欣的長方形餐桌長 92 厘米，闊 70 厘米，它的周界是多少厘米？

它的周界是：



- 10 現代小學的長方形游泳池長 50 米，闊 20 米。
志文圍着它走一圈，即走了多少米？



- 11 長方形課室長 12 米，闊 5 米。同學們用彩帶圍課室一周作聖誕佈置，彩帶共長多少米？

