



6

圖形遊戲(二)

姓名： _____

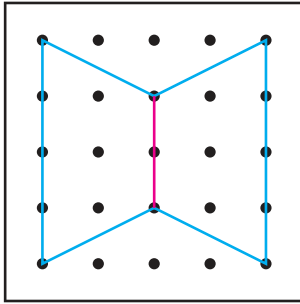
班別： _____ 日期： _____

我答對了：

 0-5 題
  6-10 題
  11-15 題

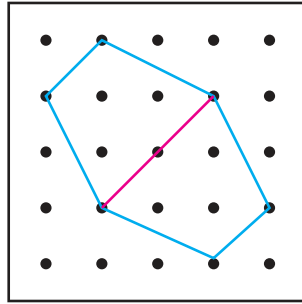
在下列各圖中加畫直線，把它們分割成兩個形狀和大小都相同的圖形。

1



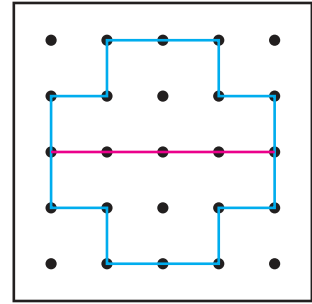
或其他合理答案

2



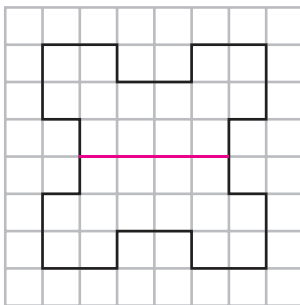
或其他合理答案

3



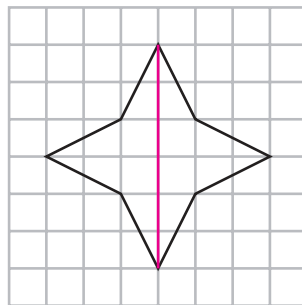
或其他合理答案

4



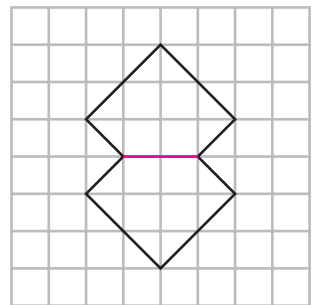
或其他合理答案

5



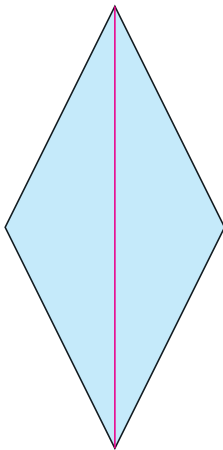
或其他合理答案

6



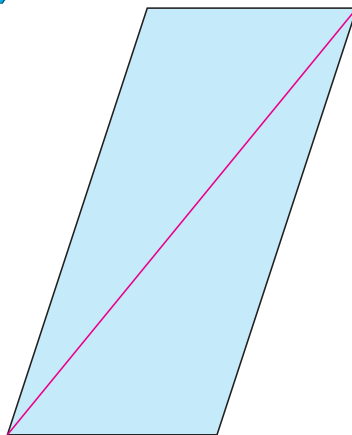
或其他合理答案

7



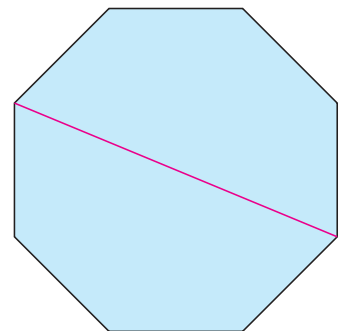
或其他合理答案

8



或其他合理答案

9



或其他合理答案