

姓名：\_\_\_\_\_

班別：\_\_\_\_\_ 日期：\_\_\_\_\_

我答對了：



0-3 題



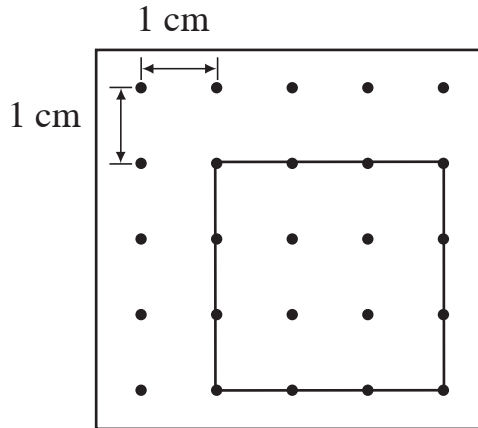
4-6 題



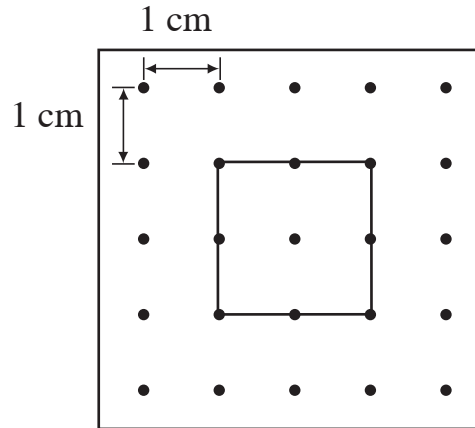
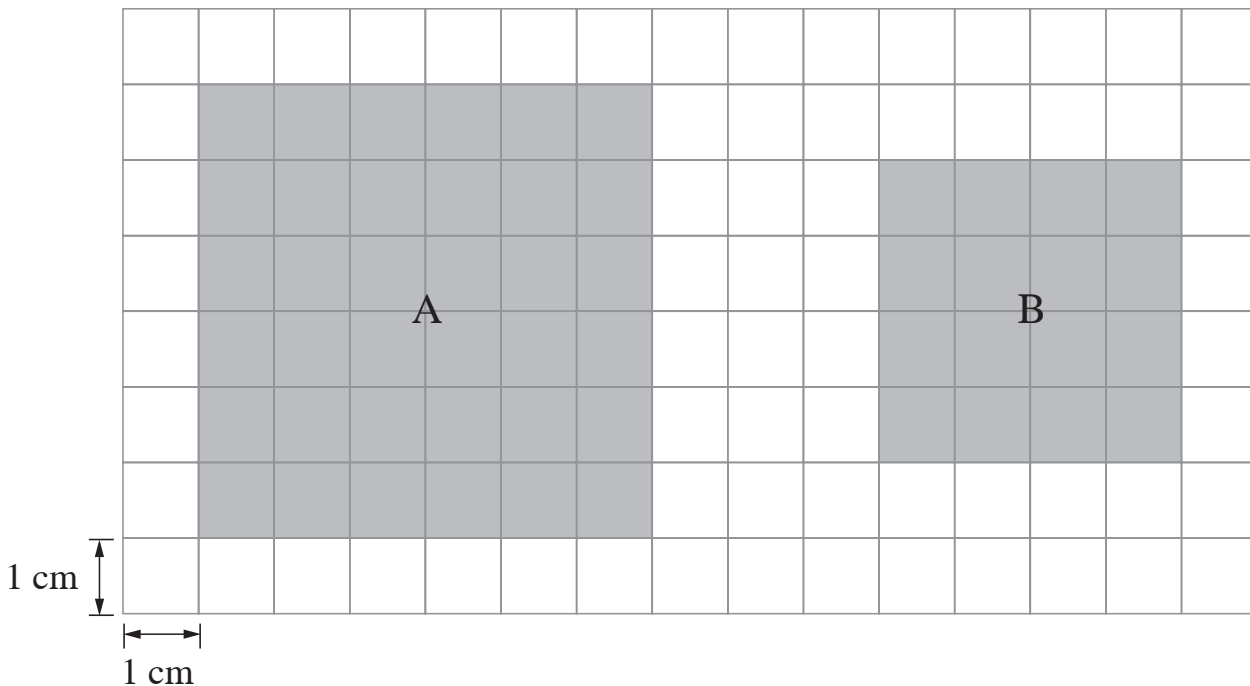
7-9 題

計算下列正方形的周界。

1



2

正方形的周界是 12 厘米。正方形的周界是 8 厘米。3 正方形 A 的周界是： $\boxed{6} \times \boxed{4} = \boxed{24}$  (厘米)4 正方形 B 的周界是： $\underline{4 \times 4} = \underline{16}$  (厘米)5 正方形 A 的周界比正方形 B 的周界長 8 厘米。

列式計算下列各題。

- 6 正方形貼紙每邊長 21 厘米，它的周界是多少厘米？

它的周界是：


$$\begin{array}{l} \boxed{21} \times \boxed{4} \\ = \boxed{84} \text{ (厘米)} \end{array}$$



- 7 一塊正方形花圃每邊長 11 米。陳先生打算在它的周圍加上圍欄，圍欄共長多少米？

圍欄共長：


$$\begin{array}{l} 11 \times 4 \\ = 44 \text{ (米)} \end{array}$$



- 8 正方形手帕的周界是 52 厘米，它的邊長是多少厘米？

它的邊長是：

$$\begin{array}{l} 52 \div 4 \\ = 13 \text{ (厘米)} \end{array}$$



9

我繞着正方形操場跑了一圈，共跑了 140 米。

這個正方形操場的邊長是多少米？

這個正方形操場的邊長是：

$$\begin{array}{l} 140 \div 4 \\ = 35 \text{ (米)} \end{array}$$

