




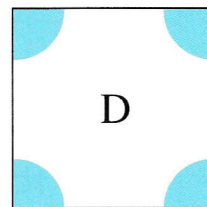
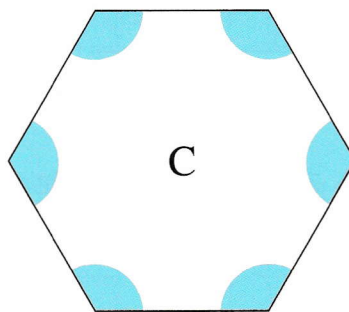
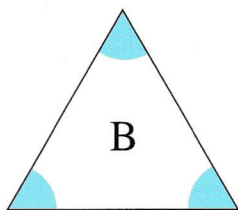
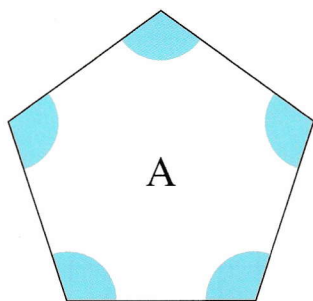
看圖填一填。

- ① 右面的角是一個 直 角。
- ② 畫一條直線，把右面的角分成兩個角。
- ③ 分成的兩個角都是 銳 角。



或其他合理畫法

比較下列各圖形的角，回答下列各題。



- ④ 圖形 B 的每一個角都是銳角。
- ⑤ 圖形 A 和 C 的每一個角都是鈍角。
- ⑥ 圖形 D 的每一個角都是直角。
- ⑦ 由小至大排列下列三種角。

直角

銳角

鈍角

銳角

， 直角 ，

鈍角

(最小)

(最大)