







# 19 報時

姓名： \_\_\_\_\_

班別： \_\_\_\_\_ 日期： \_\_\_\_\_

我答對了： 0-5 題 6-11 題 12-16 題

連連看。

1  2  3  4 

2 時 35 分      8 時 50 分      12 時 50 分      9 時 20 分

依時間圈出正確的時鐘。


5 上午 9 時 20 分


9:02 a.m.     9:20 a.m.     2:09 p.m.     9:20 p.m.

6 下午 10 時 10 分

10:00 a.m.     10:10 a.m.     10:01 p.m.     10:10 p.m.

寫出鐘面所表示的時間。

7    3   時   5   分

8    8   時  43   分

9



上午 9 時 17 分

10

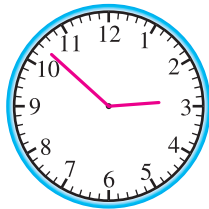


下午 1 時 2 分

依時間在鐘面上加畫時針和分針。


11

2 時 52 分



12

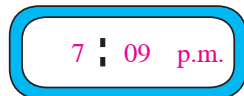
12 時 23 分



依時間在數字鐘上填寫適當的時間。

13

下午 7 時 9 分



14

上午 1 時 13 分




填一填、畫一畫。

15




45 分鐘後



上午 6 時 30 分

上午 7 時 15 分

16



11:15 a.m.

2 小時 35 分鐘後

