



19 報時

姓名： _____

班別： _____ 日期： _____

我答對了： 0-5 題 6-11 題 12-16 題

連連看。


1



•

2 時 35 分

2



•

8 時 50 分


3



•

12 時 50 分

4



•

9 時 20 分

依時間圈出正確的時鐘。

5

上午 9 時 20 分




6

下午 10 時 10 分




寫出鐘面所表示的時間。

7



_____ 時 _____ 分

8



_____ 時 _____ 分

9



____ 午 ____ 時 ____ 分

10

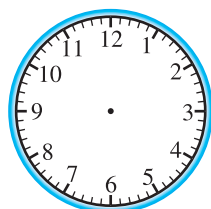


____ 午 ____ 時 ____ 分

依時間在鐘面上加畫時針和分針。

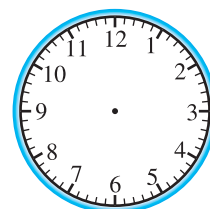
11

2 時 52 分



12

12 時 23 分



依時間在數字鐘上填寫適當的時間。


13

下午 7 時 9 分



14

上午 1 時 13 分



填一填、畫一畫。

15




45 分鐘後



上午 ____ 時 ____ 分

上午 ____ 時 ____ 分

16



11:15 a.m.

□ 小時 □ 分鐘後



1:50 p.m.