

8

有趣的角

姓名： _____

班別： _____ 日期： _____

我答對了：



0-5 題



6-10 題



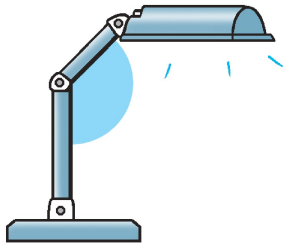
11-14 題

圈出正確的答案。


- 1 比直角小的角，稱為（銳角 / 鈍角）。
- 2 比一個直角大，但比兩個直角小的角稱為（銳角 / 鈍角）。

根據下列各圖所顯示的角，連連看。

3



4



5




6



7



8



銳角

直角

鈍角