



6

24 小時報時制

姓名：_____


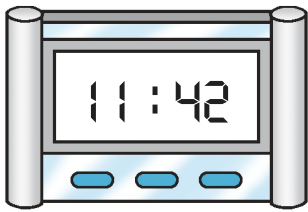
班別：_____ 日期：_____

我答對了：

 0-5 題
  6-10 題
  11-14 題

下面的時鐘都是以 24 小時報時制顯示時間的，依指示圈圈看。

1 哪一個時鐘顯示了下午的時間？



2 哪一個時鐘顯示的時間最接近 12:00 a.m.?



填填看。

3



上午 11 時 51 分

4



下午 3 時 20 分

5



下午 10 時 14 分

6



上午 9 時 5 分